

MATEMATICAS

1- COMPLETO LAS SERIES

50				54					
----	--	--	--	----	--	--	--	--	--



60							67		
----	--	--	--	--	--	--	----	--	--

2- ORDENO ESTOS NÚMEROS DE MAYOR A MENOR

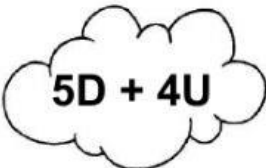
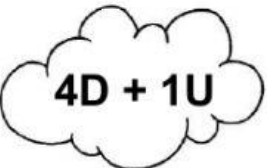
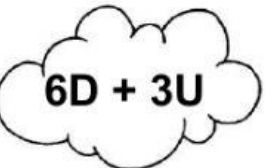





44 - 62 - 38 - 56 - 68

--	--	--	--	--

3- CUENTO, ESCRIBO Y PINTO EL NIÑO QUE TIENE MÁS DINERO.

 <div> <div>\$10 \$10 \$10 \$10 \$10</div> <div>\$1 \$1 \$1 \$1 \$1</div> <div></div> </div>	 <div> <div>\$10 \$10 \$10 \$10</div> <div>\$1 \$1 \$1</div> <div></div> </div>
--	--

4- UNIR EL NÚMERO CON LOS DIECES Y UNOS QUE CORRESPONDA

 5D + 4U	 4D + 1U	 6D + 3U	 1D + 7U
 41	 54	 17	 63

5- COLOCO EL ANTERIOR Y EL POSTERIOR

	48	
	55	
	57	

6- RESOLVER LAS SIGUIENTE CUENTITAS

<table border="1"> <tr><td>D</td><td>U</td></tr> <tr><td>4</td><td>2</td></tr> <tr><td>+</td><td>2</td></tr> <tr><td>2</td><td>4</td></tr> <tr><td colspan="2"><hr/></td></tr> <tr><td></td><td></td></tr> </table>	D	U	4	2	+	2	2	4	<hr/>				<table border="1"> <tr><td>D</td><td>U</td></tr> <tr><td>3</td><td>3</td></tr> <tr><td>+</td><td>1</td></tr> <tr><td>1</td><td>5</td></tr> <tr><td colspan="2"><hr/></td></tr> <tr><td></td><td></td></tr> </table>	D	U	3	3	+	1	1	5	<hr/>				<table border="1"> <tr><td>D</td><td>U</td></tr> <tr><td>5</td><td>6</td></tr> <tr><td>-</td><td>1</td></tr> <tr><td>1</td><td>4</td></tr> <tr><td colspan="2"><hr/></td></tr> <tr><td></td><td></td></tr> </table>	D	U	5	6	-	1	1	4	<hr/>				<table border="1"> <tr><td>D</td><td>U</td></tr> <tr><td>2</td><td>4</td></tr> <tr><td>-</td><td>1</td></tr> <tr><td>1</td><td>2</td></tr> <tr><td colspan="2"><hr/></td></tr> <tr><td></td><td></td></tr> </table>	D	U	2	4	-	1	1	2	<hr/>			
D	U																																																		
4	2																																																		
+	2																																																		
2	4																																																		
<hr/>																																																			
D	U																																																		
3	3																																																		
+	1																																																		
1	5																																																		
<hr/>																																																			
D	U																																																		
5	6																																																		
-	1																																																		
1	4																																																		
<hr/>																																																			
D	U																																																		
2	4																																																		
-	1																																																		
1	2																																																		
<hr/>																																																			