







# COORDENADES



Arrossega on corresponga:

1) 	_____	6) (2,2)	_____
2) 	_____	7) (9,7)	_____
3) 	_____	8) (2,7)	_____
4) 	_____	9) (3,4)	_____
5) 	_____	10) (7,3)	_____



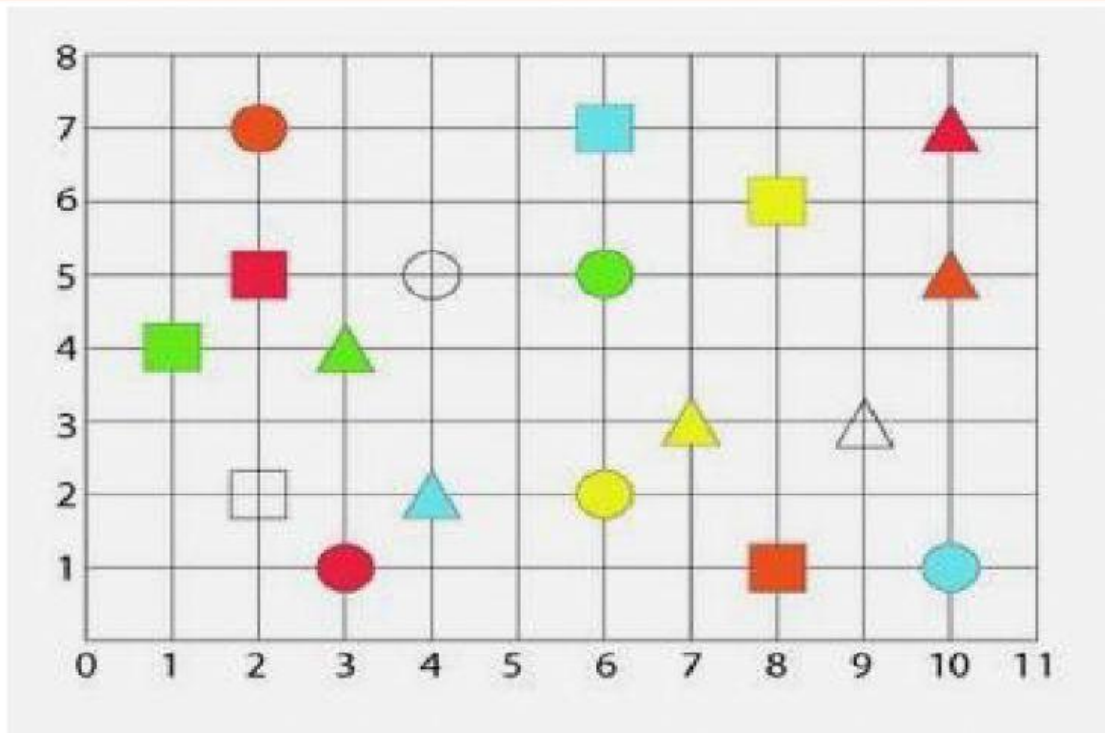
( 4,9)

(5,2)











( 8,1)

(1,10)

(9,5)



*Escriu les coordenades de les caselles on es troba cada figura o arrossega la figura a les seues coordenades. Recorda escriure els paréntesis.*

a 	<input type="text"/>	b <input type="text"/>	(7,3)	c 	<input type="text"/>
d 	<input type="text"/>	e <input type="text"/>	(3,4)	f 	<input type="text"/>
g 	<input type="text"/>	h <input type="text"/>	(3,1)	i 	<input type="text"/>
j 	<input type="text"/>	k <input type="text"/>	(4,2)	l 	<input type="text"/>
m 	<input type="text"/>	n <input type="text"/>	(10,7)	o 	<input type="text"/>

