




Monitoreo Pensamiento Matemático

Nombre: _____

1.- Observa la imagen y arrastra los objetos según la instrucción:



a) Ubica la pelota entre los niños.

b) Ubica el pajarito adelante del árbol que está bajo tu mano izquierda.



c) Ubica el balde afuera del pozo arenero, entre la niña y el niño que esta jugando la pelota.



2.- Orientarse Temporalmente:

Con la ayuda de un adulto lee la historia de Mario y luego ordena las actividades:

Mario lo pasó fantástico el fin de semana.



Fue al zoológico a visitar al nuevo león, pero antes de salir lavo muy bien su manos y se puso su mascarilla de colores brillantes. Al llegar a casa cambio sus zapatos y lava muy bien sus manitos y Después ayudo con el almuerzo.



ANTES







DESPUÉS



3.- Escribe en el los números del 1 al 4 ordenando el crecimiento de la flor.



4.- Cuenta cuantos elementos hay en cada conjunto y arrastra el número que corresponde.

8




11

4

2

5.- Une con una línea cada figura geométrica con el objeto que corresponde según su forma.

:



6.-Cuerpos geométricos

a) Marca el objeto que asemeja a un cubo.



b) Marca el objeto que asemeja a una esfera.



c) Marca el objeto que se asemeja a una pirámide



7.- Con la ayuda de un adulto lee el problema y resuelve escribiendo tu respuesta en los

Resuelve este problema

El pastelero horneó 2 pasteles de frutilla



y luego preparó 7 más de chocolate



¿Cuántos pasteles cocinó en total?

$$\square + \square = \square$$
