

EVALUACIÓN MATEMÁTICA

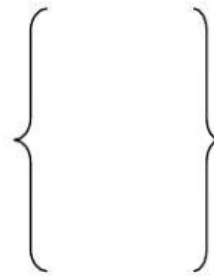
PARCIAL 1 - 2DO EGB

Nombre:

Fecha:

1. INSTRUCCIÓN: Observa y arrastra lo que les falta a estos conjuntos.

N=




F



$\{ 1, 2, 3, 4, 5 \}$

A=



2. INSTRUCCIÓN: Arrastra y forma tres subconjuntos a partir del siguiente conjunto universo.



T= (,)

A= (,)

M= (,)

3. INSTRUCCIÓN: Escucha el número y une con líneas.



5

3


8

7

0

4. INSTRUCCIÓN: Selecciona la línea que se te pide.

QUEBRADA



VERTICAL



ESPIRAL



5. INSTRUCCIÓN: Selecciona y completa los días de la semana.

Los días de la semana

lunes
miércoles
jueves
domingo

6. INSTRUCCIÓN: Selecciona y completa los meses del año.

Los meses del año

1 enero	5 mayo	9
2 febrero	6	10 octubre
3	7 julio	11 noviembre
4 abril	8 agosto	12

REACTIVO DE CORRESPONDENCIA

7. INSTRUCCIÓN: Observa la tabla de acuerdo a una encuesta realizada sobre la película favorita, cuenta las marcas y escribe la frecuencia.

Película favorita	Marcas	Frecuencia
 <p>Princesas</p>		
 <p>Superhéroes</p>		
 <p>Mascotas</p>		



Realizado por
Lic. Jorge Vaca G.
2020