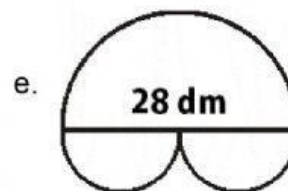
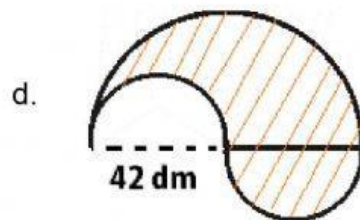
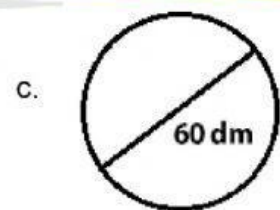
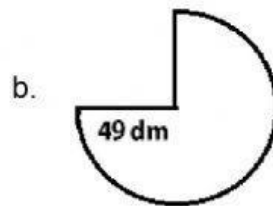
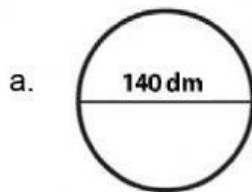


Kerjakan latihan soal berikut!



1. Tentukan luas lingkaran berikut!



2. Diameter lingkaran yang luasnya  $706,5 \text{ dm}^2$  adalah .... dm

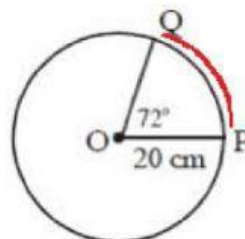
3. Jari-jari lingkaran yang luasnya  $1,326 \text{ dm}^2$  adalah .... dm

4. Keliling sebuah lingkaran adalah 125,6 dm. Luas lingkaran tersebut adalah....  $\text{dm}^2$

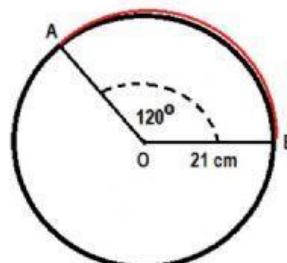
5. Sebuah taman berbentuk lingkaran dengan diameter 56 meter akan ditanami rumput. Harga rumput adalah RP 7.500,00/m<sup>2</sup>. Biaya yang harus dikeluarkan untuk membeli rumput adalah ....

6. Hitung luas juring berikut!

a. Luas juring POQ adalah ....



b. Luas juring AOB adalah ....



c. Luas juring XYZ adalah

