


Relaciona cada figura de nota amb la seva durada i amb la corresponent figura de silenci.




4 temps




2 temps



1 temps



½ temps



¼ temps



Completa les equivalències següents:

4 negres = ___ redones

16 blanques = ___ redones

8 corxeres = ___ negres

4 semicorxeres = ___ negres

2 redones = ___ negres

32 semicorxeres = ___ corxeres

1 negra = ___ corxeres

2 blanques = ___ semicorxeres

1 corxera = ___ semicorxeres