



PERÍMETRO

1. Halla el perímetro de las siguientes figuras, teniendo en cuenta que cada lado tiene la misma medida:




6 cm



5 cm



4 cm



3 cm

2. Carlos corre todas las mañanas 2 vueltas alrededor del parque. ¿Cuántos metros corre Carlos?

