


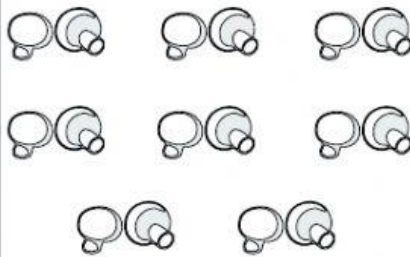
# ¿ QUÉ CUENTA HAY QUE HACER ?

MULTIPO9.

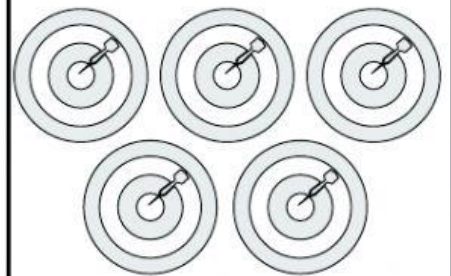
¿ Cuántos agujeros tienen todas esas bolas de bolos ?



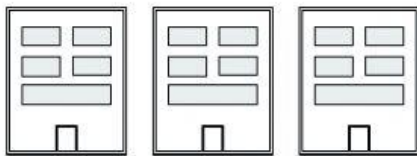
¿ Cuántos champiñones hay aquí debajo ?




¿ Cuántos círculos hay en todas las dianas ?



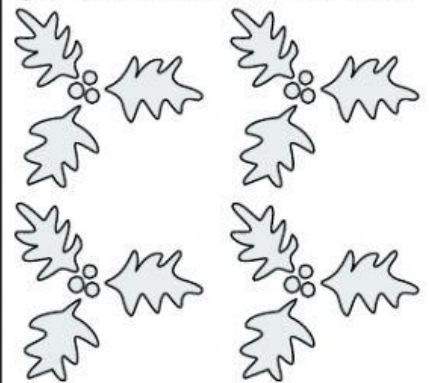
¿ Cuántas ventanas hay en esos tres edificios ?




¿ Cuántas torres tienen todas esas iglesias ?




¿ Cuántas hojas hay en total ?



¿ Cuántas puntas tienen todas esas estrellas ?



¿ Cuántas alas tienen entre todos los pájaros ?



¿ Cuántos dedos hay en todos esos pies ?

