

# PRACTICAMOS LAS FRACCIONES

Recordamos

## PARTES DE UNA FRACCIÓN

**NUMERADOR** →


INDICA EL NÚMERO DE PARTES QUE SE TOMAN DEL ENTERO O UNIDAD

$$\frac{3}{4}$$

← **DENOMINADOR**

INDICA EL NÚMERO DE PARTES IGUALES EN QUE SE DIVIDE LA UNIDAD O EL ENTERO.

### 1. Fracciones como parte de un conjunto




¿Qué fracción del grupo representan los corazones pintados?



¿Con qué fracción puedo representar la cantidad de frutas rojas de este grupo?



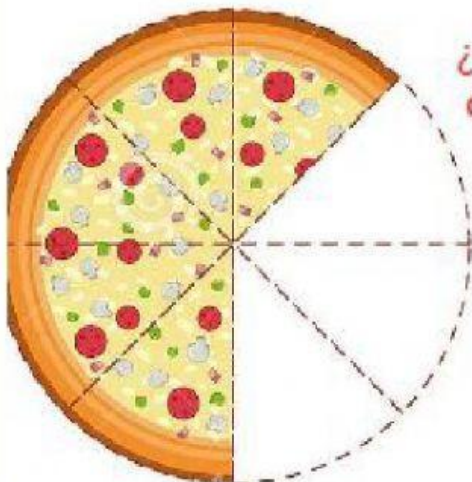
¿Con qué fracción puedo representar la cantidad de frutas que tiene hojitas?




De este conjunto de insectos  
¿Qué fracción representa a aquellos que **NO** pueden volar?




## 2. Fracciones como partes de una unidad



¿Qué fracción representa la cantidad de porciones que faltan?



¿Qué fracción representa la cantidad de porciones que aún quedan en la bandeja?



¿Qué fracción representa la cantidad de porciones que faltan?

**¡ FIN ¡**