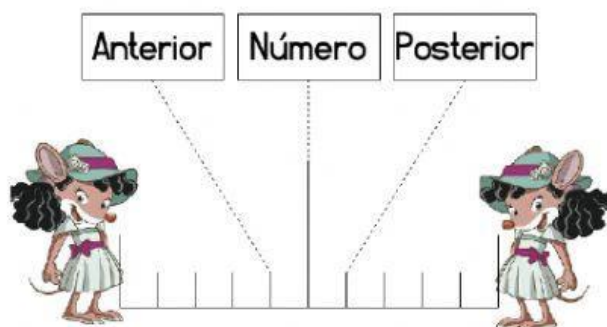


UNIDAD 1- CÓMO NOS ORGANIZAMOS
MATEMÁTICA
2020-2021



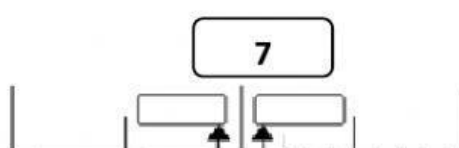
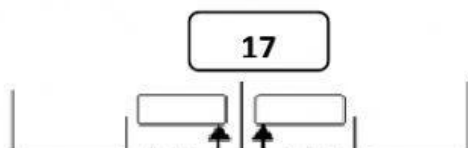
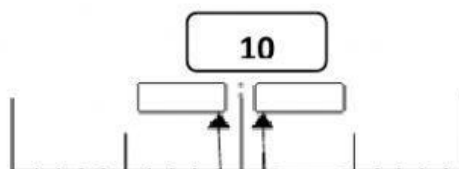
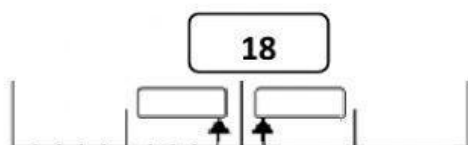
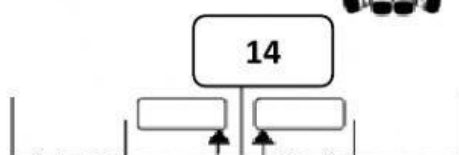
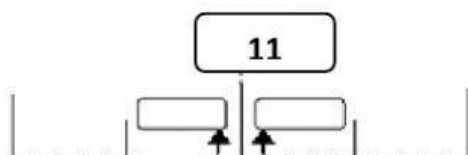
1. Observa los números y completa cuál número es el anterior y posterior.
5 puntos

anterior	número	posterior
	6	
	3	
	8	
	5	
	7	

Establecer relaciones de secuencia y de orden (anterior, posterior)

1 p c/u

2. Observa los números en la recta numérica y escribe el anterior y posterior de cada uno.
5 puntos



Establecer relaciones de secuencia y de orden (anterior, posterior) en la recta numérica.

1 p c/u