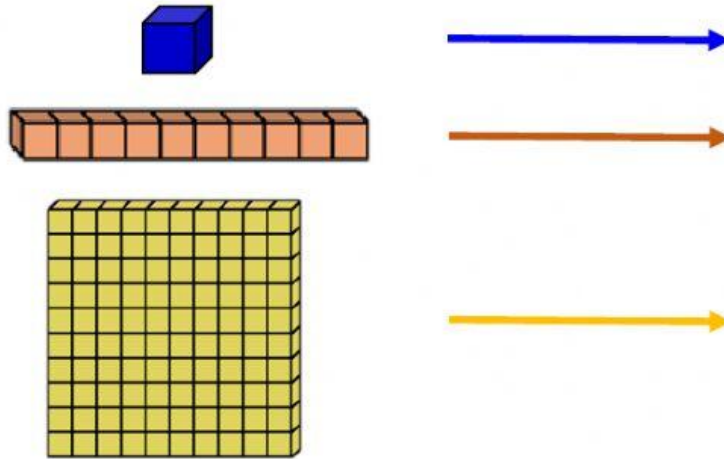


Quiz 2




Lee con atención y responde.
Escribe el valor de cada uno;



Escribe la cantidad representada en número y en letra.

Centenas	Decenas	Unidades	Número	Palabras



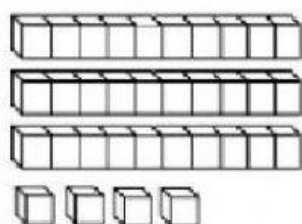


- Escribe cuántas decenas y unidades hay en cada número.
 - Después realiza la operación.
- Sigue el ejemplo:



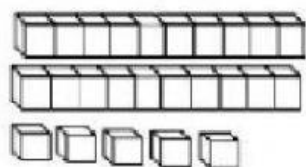
D	U

$$\boxed{10} + \boxed{4} = \boxed{14}$$



D	U

$$\boxed{} + \boxed{} = \boxed{}$$



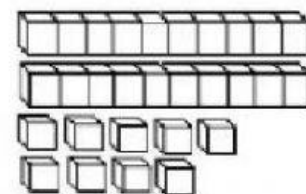
D	U

$$\boxed{} + \boxed{} = \boxed{}$$



D	U

$$\boxed{} + \boxed{} = \boxed{}$$



D	U

$$\boxed{} + \boxed{} = \boxed{}$$