

# ESCUELA DE EDUCACIÓN BÁSICA "EDUARDO KINGMAN"



ASIGNATURA: Matemática

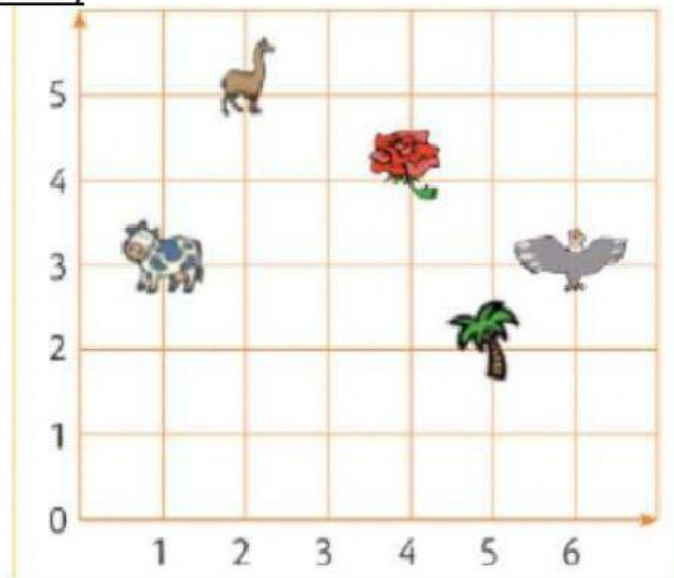
AÑO BÁSICO: 3ro "A" y "B"

NOMBRE: \_\_\_\_\_

FECHA: \_\_\_\_\_

Examen del Primer Quimestre

## 1.-MIRA EL PLANO CARTESIANO Y SELECCIONA LA RESPUESTA DE CADA PREGUNTA ( 1 PUNTO)



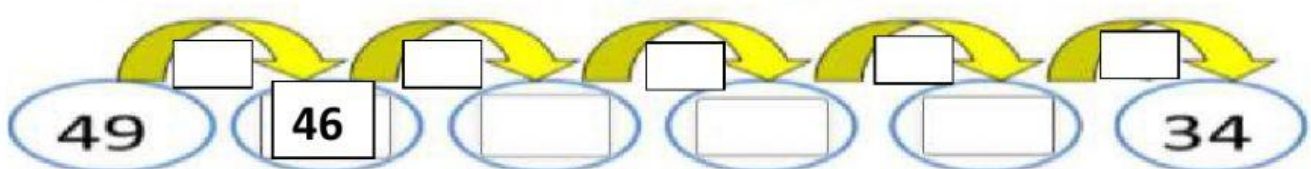
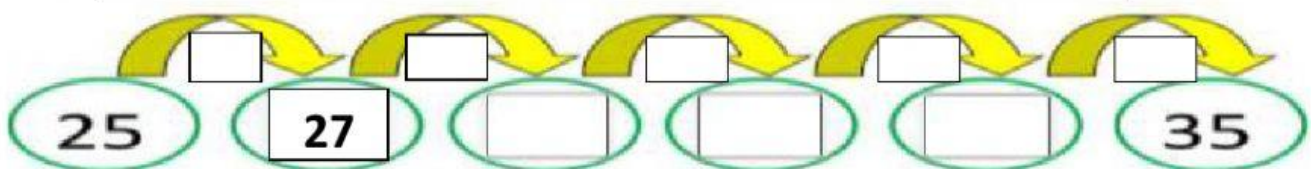
a) ¿Cuál es la coordenada de la palmera?

- |        |        |        |        |        |
|--------|--------|--------|--------|--------|
| (1, 3) | (5, 2) | (6, 3) | (3, 1) | (2, 5) |
|--------|--------|--------|--------|--------|

b) ¿En qué coordenada se encuentra la rosa?

- |        |        |        |        |        |
|--------|--------|--------|--------|--------|
| (6, 3) | (3, 6) | (4, 4) | (1, 3) | (2, 5) |
|--------|--------|--------|--------|--------|

## 2.-ENCUENTRA EL PATRÓN Y COMPLETA LA SUCESIÓN (1.5 PUNTO)



**3.-COMPLETA EL SIGUIENTE CUADRO CON LA DESCOMPOSICIÓN Y ESCRITURA DE LAS SIGUIENTES CANTIDADES (1 PUNTO)**

<u>NÚMERO</u>	<u>DESCOMPOSICIÓN</u>	<u>SE LEE</u>
<u>809</u>		
<u>765</u>		

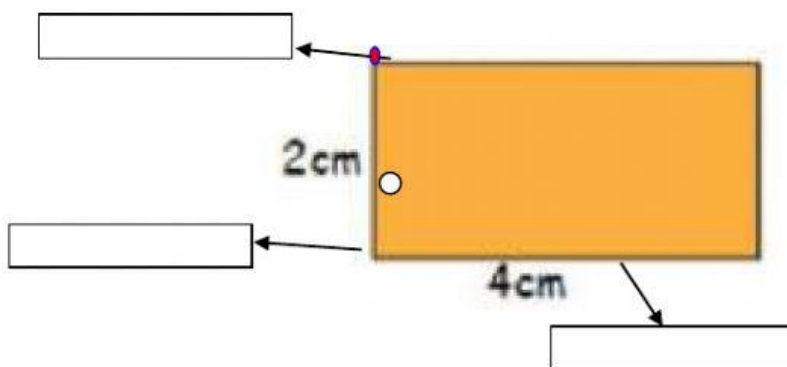
**4.-ARRASTRA EL SIGNO MAYOR (>), MENOR (<) O IGUAL (=) SEGÚN CORRESPONDA(1.5 PUNTO)**

356	<input type="text"/>	366
161	<input type="text"/>	123
350	<input type="text"/>	328

382	<input type="text"/>	483
356	<input type="text"/>	356
111	<input type="text"/>	112

<	<
>	=
>	<

**5.-ESCRIBE LOS ELEMENTOS DE LA SIGUIENTE FIGURA Y ENCUENTRA EL Perímetro ( 1 PUNTO)**



$$P = L + L + L + L$$

$$P = \square + \square + \square + \square$$

$$P = \square$$

**6.-SELECCIONE SI O NO SEGÚN CORRESPONDA ( 1 PUNTO)**

	<u>si</u>	<u>no</u>
a) Los poliedros están formados por figuras geométricas planas que se registran y se agrupan.		
b) Líneas rectas son las que siguen una misma dirección.		
c) Las coordenadas están formadas por figuras geométricas.		
d) Los patrones pueden ser de forma, color, tamaño y posición.		

**7.-RESUELVA EL SIGUEINTE PROBLEMA ( 2 PUNTO)**

a) Roxana tiene 754 canicas y su hermano Juan le pierde 345. ¿Cuántas le quedan al final?

Datos:

canicas

Pierde  canicas

Solución:

Operación:

<input type="text"/>	<input type="text"/>	<input type="text"/>
<input type="text"/>	<input type="text"/>	<input type="text"/>
<hr/>		
<input type="text"/>	<input type="text"/>	<input type="text"/>

**8.-Escucha con atención el dictado de cantidades, luego de escribirlo.( 1 PUNTO)**

<input type="text"/>	<input type="text"/>	<input type="text"/>	<input type="text"/>	<input type="text"/>
----------------------	----------------------	----------------------	----------------------	----------------------