

- Números até 20;
- Antecessor e Sucessor;
- Adições e Subtrações;
- Sequências.

1)ARRASTE CADA NUMERAL AO SEU NOME.

DEZ



TREZE



QUINZE



VINTE



OITO



20

8

13

10

15

2)QUEM SÃO OS VIZINHOS:



12



17



19



11



14



16



3) RESOLVA AS ADIÇÕES:

$$5 + 2 = \square$$
$$6 + 1 = \square$$
$$4 + 8 = \square$$

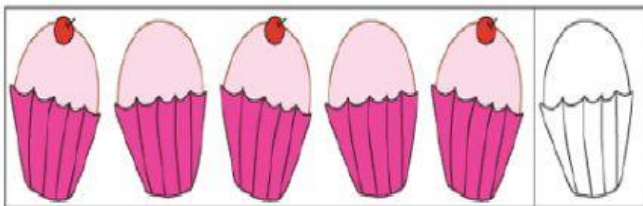

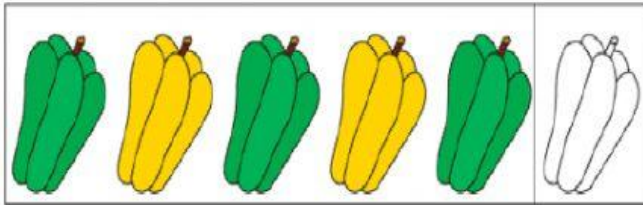

4) RESOLVA AS SUBTRAÇÕES:

$$5 - 2 = \square$$

$$6 - 1 = \square$$

$$8 - 4 = \square$$

# 5) LIGUE ATÉ A PRÓXIMA FIGURA DA SEQUÊNCIA.



- Atividades elaboradas pelas professoras dos 2º anos do Centro Educacional Professor Henrique Buss.  
- Imagens retiradas da Internet.