









cuenta los animales y registra la cantidad total de cada especie.



Animales	Número
	
	
	
	
	
	
	
	

Representa los datos en una gráfica.

10								
9								
8								
7								
6								
5								
4								
3								
2								
1								
								

contesta las preguntas.

1.¿Qué animal tiene más?



2.¿Qué animal tiene menos?



3.¿Qué animal tiene 5?



4.¿Cuántas tortugas hay más que cebras?



5.¿Cuántas avestruces hay más que jirafas?

