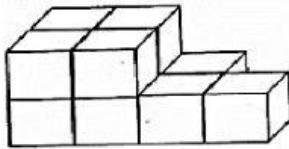
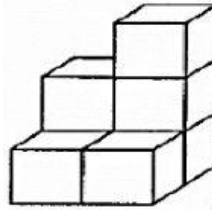


UNIDADES DE VOLUMEN


1. ¿Cuál es el doble de estos cubos?



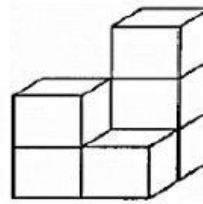
4. ¿Cuántas parejas de cubos hay?



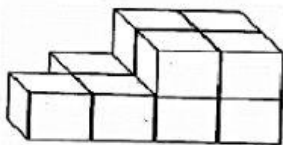
2. En la figura mostrada. ¿Cuántos cubos faltan para dos docenas?



5. En la figura mostrada. ¿Cuántos es el doble de los cubos mostrados?



3. ¿Cuántos cubos sobran para tener solo una decena?





Recuerden solo escribir el número.

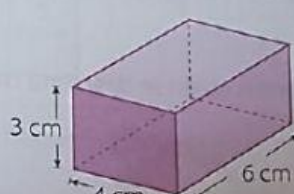
Escribe el volumen de cada sólido.

a.



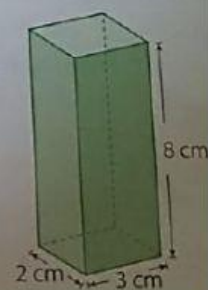
cm³

b.



cm³

c.



cm³