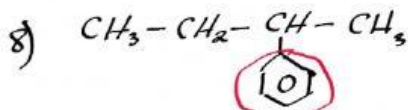
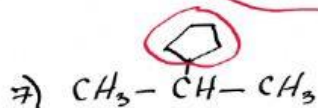
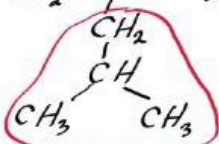
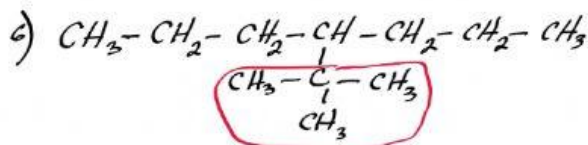
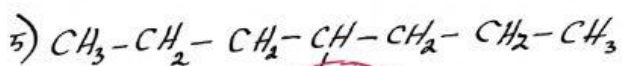
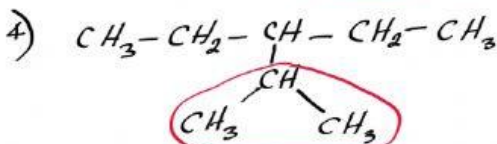
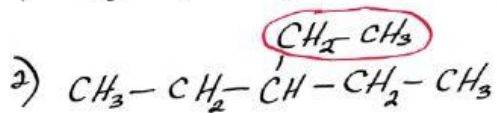
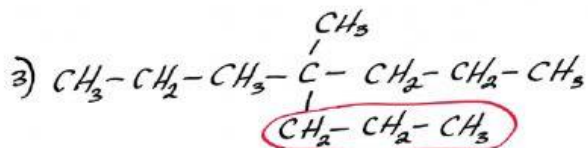
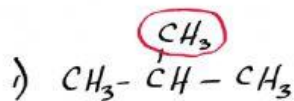


Observe la imagen y complete el cuadro de más abajo, indicando el nombre del radical encerrado para cada cadena, según la numeración que esta presenta:



Cadena Número	Nombre del radical señalado en rojo
1	
2	
3	
4	
5	
6	
7	
8	