



Nombre: _____

Asignatura: _____

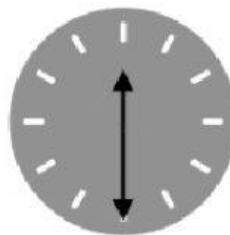
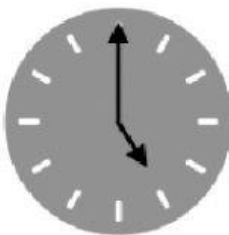
Curso: _____

Fecha: _____

1. ¿Cuánto dinero hay en cada hucha?



2. ¿Qué hora marcan estos relojes?



3. Completa la tabla.

	Número de lados	Se llama...
		
		
		
		