






1. En el siguiente pictograma se representa la cantidad de cupcakes vendidos a la semana por una tienda. Completa la columna Total teniendo en cuenta el valor de cada imagen.

Día	cupcakes	total
Lunes		
Martes		
Miércoles		
Jueves		
Viernes		



Con la información obtenida en el pictograma responde:

- ¿Cuál es la moda ? _____
- ¿Qué día se vendió más que el martes pero menos que el miércoles? _____
- ¿Cuántos cupcakes se vendieron entre miércoles y viernes?

- ¿Cuántos cupcakes más que el jueves se vendieron con respecto al martes? _____
- ¿Cuántos cupcakes se vendieron en total? _____