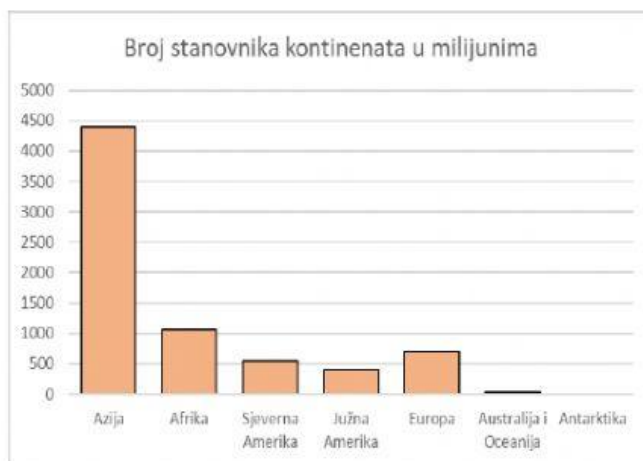
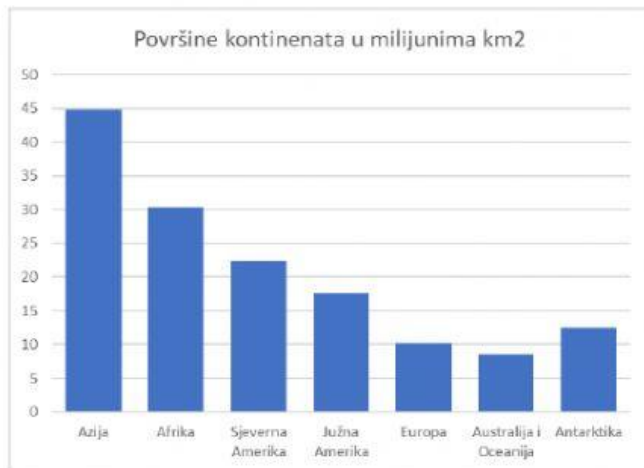


VELIČINA, GEOGRAFSKI SMJEŠTAJ I POLOŽAJ EUROPE

1. Pažljivo prouči priložene stupčaste dijagrame i odgovori na pitanja.



Površinom najveći kontinent je _____, a površinom najmanji kontinent je _____.

Koja dva kontinenta su po broju stanovnika najbliža Europi? _____ i _____.

Koji kontinent ima površinu od 12,5 milijuna km²? _____.

Koji kontinent ima približno 1 milijardu stanovnika? _____.

Poredaj kontinente prema veličini površine od najmanjeg do najvećeg, tako da na crtu pored broja 1 napišeš ime najmanjeg kontinenta, a pored broja 7 ime najvećeg kontinenta.

1) _____ 2) _____ 3) _____ 4) _____

5) _____ 6) _____ 7) _____

Poredaj kontinente prema broju stanovnika od najvećeg do najmanjeg, tako da na crtu pored broja 1 napišeš ime kontinenta s najvećim brojem stanovnika, a pored broja 7 ime kontinenta s najmanjim brojem stanovnika.

1) _____ 2) _____ 3) _____ 4) _____

5) _____ 6) _____ 7) _____

2. Ako je tvrdnja točna izaberi **DA**, a ako tvrdnja nije točna izaberi **NE**.

Euroazija je najveći kontinent na Zemlji.

DA **NE**

Turska je euroazijska država.

DA **NE**

Europa ima jako povoljan geografski položaj.

DA **NE**

Najveći dio Europe nalazi se u južnom umjerenom pojasu.

DA **NE**

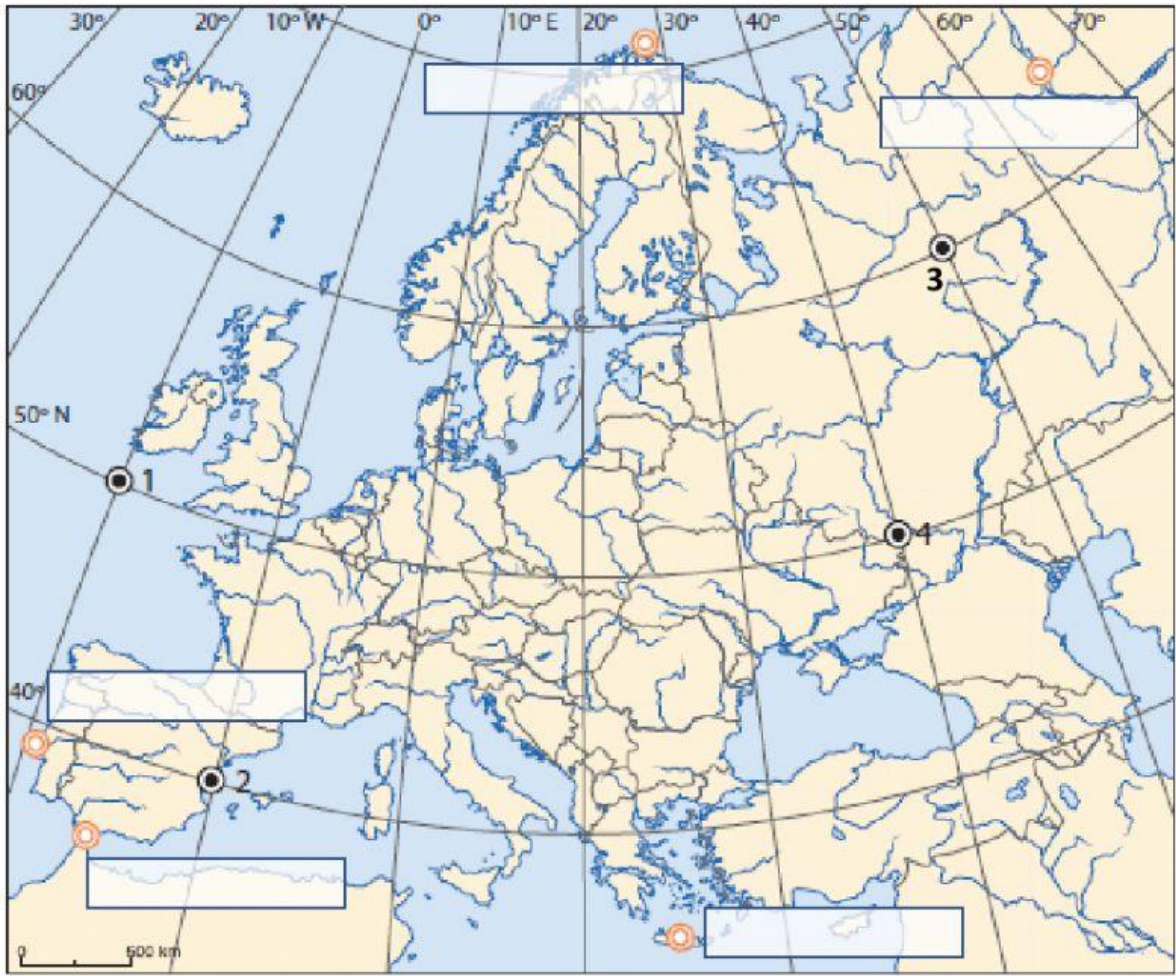
Kroz Europu prolazi početni meridijan i ekvator.

DA **NE**

Najviše država Europe nalazi se u Srednjoeuropskoj vremenskoj zoni.

DA **NE**

3. Sljedeće zadatke riješi uz pomoć priložene karte Europe. U radu koristi geografski atlas.



Crvenim točkama označene su krajnje točke Europe. Imena krajnjih točaka smjesti u odgovarajući pravokutnik na karti

Rt Roca Rt Tarife Rt Kinnarodden Kreta Ural

Za točke koje su na karti označene brojevima od 1 do 4 odredi geografski smještaj.

Točka 1 nalazi se _____° _____ od ekvatora i _____° _____ od početnog meridijana.

Točka 2 nalazi se _____° _____ od ekvatora i _____° _____ od početnog meridijana.

Točka 3 nalazi se _____° _____ od ekvatora i _____° _____ od početnog meridijana.

Točka 4 nalazi se _____° _____ od ekvatora i _____° _____ od početnog meridijana.