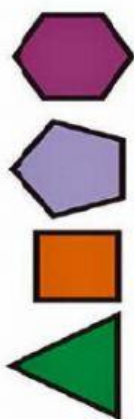
 Educación Adventista <small>másQueEnseñanza</small>	Colegio Adventista de Concepción Asig: Matemática Prof. Lidia Saavedra Villagrán Profesora Diferencial: Laura Concha Olivares	EVALUACIÓN 2° Año ""	
		Fecha 29 /09/ 2020	/53 ptos
OA 15: Describir, comparar y construir figuras 2D (triángulos, cuadrados, rectángulos y círculos) con material concreto. OA 9: Demostrar que comprende la adición y la sustracción en el ámbito del 0 al 1.000: usando un lenguaje cotidiano y matemático			
HABILIDADES: Describir – identificar – resolver problemas.			

I.- 1. Une con una línea el polígono con su nombre (6 p)



Triángulo

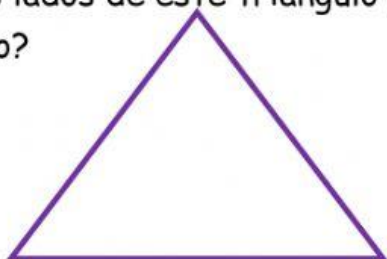
Cuadrado

Pentágono

Hexágono

2.- Resuelve.

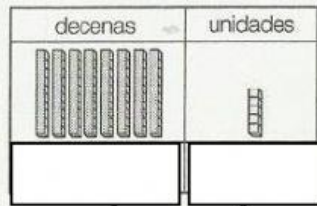
Todos los lados de este triángulo miden 30 centímetros: ¿Cuál será el perímetro?



CENTÍMETROS

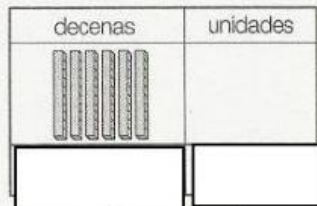
II.- Completa las actividades. (16 ptos)

1 ¿Cuántos cubos hay?



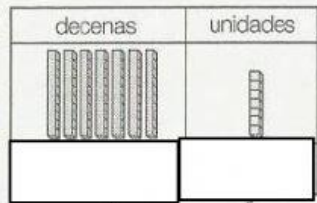
unidades.

2




unidades.

3



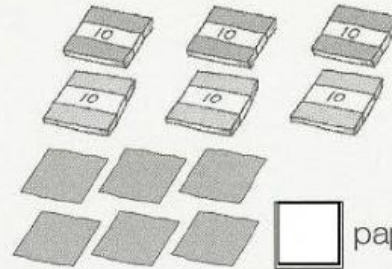
unidades.

4 ¿Cuántos hay?



lápices.

5 ¿Cuántos papeles lustre hay?



papeles.

6 Completa.

- a) 9 decenas y 4 unidades son:
- b) 7 decenas y 8 unidades son:
- c) 6 decenas son:
- d) 8 decenas y 2 unidades son:
- e) 9 decenas y 5 unidades son:

(9 ptos)

Ana, Luis y Alberto jugaron a saltar la cuerda.




Luis, 30 saltos.

Ana, 34 saltos.

Alberto, 22 saltos.



3 Completa la tabla para representar los saltos de Ana, Luis y Alberto.

	Con bloques	Con números
Ana		
Luis		
Alberto		

4 Marca con X, mayúscula la respuesta correcta. (6 ptos)

a) El número de saltos que tiene **DOS** decenas corresponde a:

☐

Ana

☐

Luis

☐

Alberto

b) El número de saltos que tiene cuatro unidades corresponde a:

☐

Ana

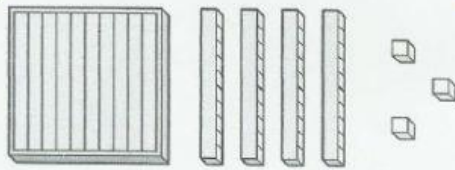
☐

Luis

☐


Alberto

5 ¿Cuántos hay?



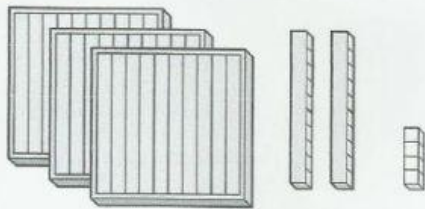
Respuesta: cubos.

7 ¿Cuántos lápices hay?




Respuesta: lápices.

6 ¿Cuántos hay?



Respuesta: cubos.

8 ¿Cuántos hay?



Respuesta: lápices.


9

a) Compremos pasteles.

(2 ptos)




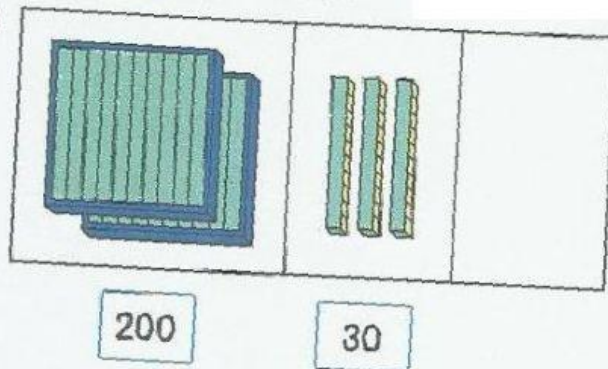
b) Jorge compró 1 queque, 2 medialunas y 2 galletones.
¿Cuánto dinero gastó?



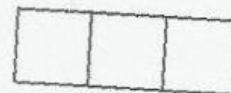
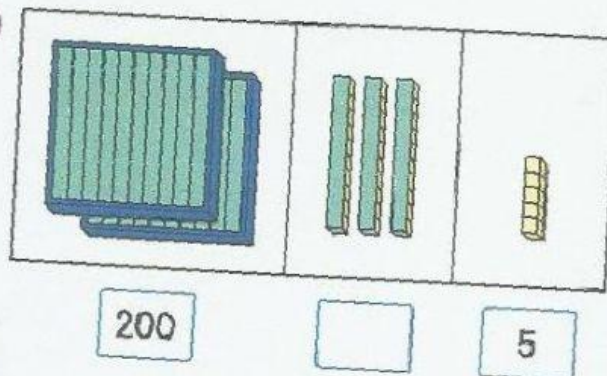
10 ¿Cuántos  hay en total?

(10 pts)

a)

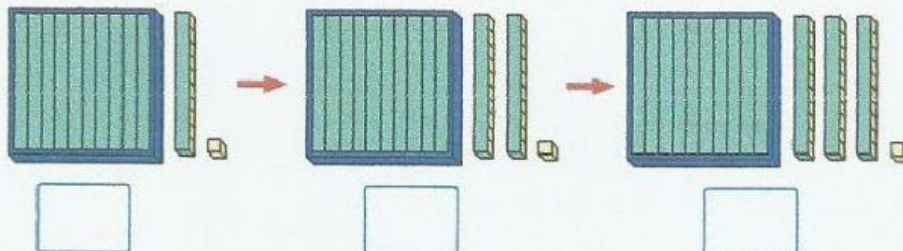


b)



11 Cuenta y completa.

a)



b) Hay 29 personas en el bus. Y subieron 20. ¿Cuántas pasajero van en el bus?

