

1. Escribe debajo el nombre de las notas musicales.



2. ¿Recordáis las duraciones de las figuras?



Realiza las siguientes sumas musicales:

$$\text{half note} + \text{quarter note} =$$

$$\text{eighth note} + Z + \text{quarter note} =$$







$$\text{eighth note} + \text{eighth note} =$$

$$Z + \text{half note} =$$

$$\text{quarter note} + \text{quarter note} + \text{quarter note} + \text{quarter note} =$$

$$\text{quarter note} + \text{sixteenth note} + \text{eighth note} =$$

3. DICTADO RÍTMICO. Escribe en cada ritmo el número de audio que corresponda.

- | | | |
|----|---|--|
| 1. | <input type="radio"/>  | <input type="radio"/>  |
| 2. | | |
| 3. | <input type="radio"/>  | <input type="radio"/>  |
| 4. | | |
| 5. | <input type="radio"/>  | <input type="radio"/>  |
| 6. | | |

4. DICTADO TÍMBRICO. Une cada sonido con el instrumento correspondiente.









