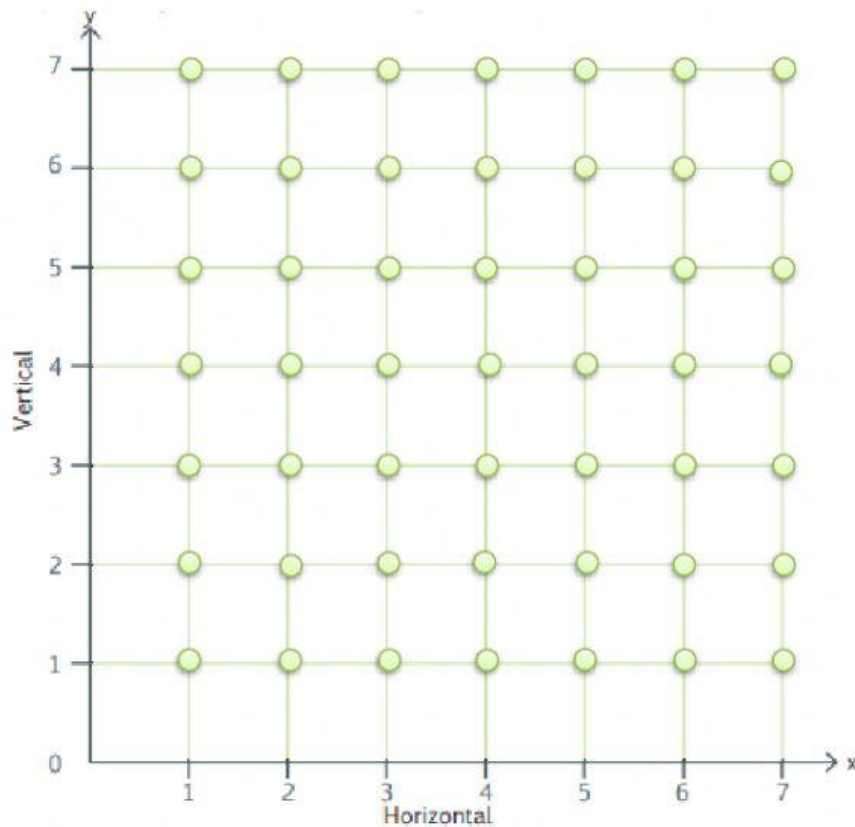


Actividad 2

Tema: Plano cartesiano

Fecha: 24 de Septiembre del 2020

1) Identificar los pares ordenados y arrastra los gráficos donde corresponde.



Pares ordenados



(1; 7)



(4; 5)



(3; 1)



(2; 2)



(3; 2)



(6; 7)

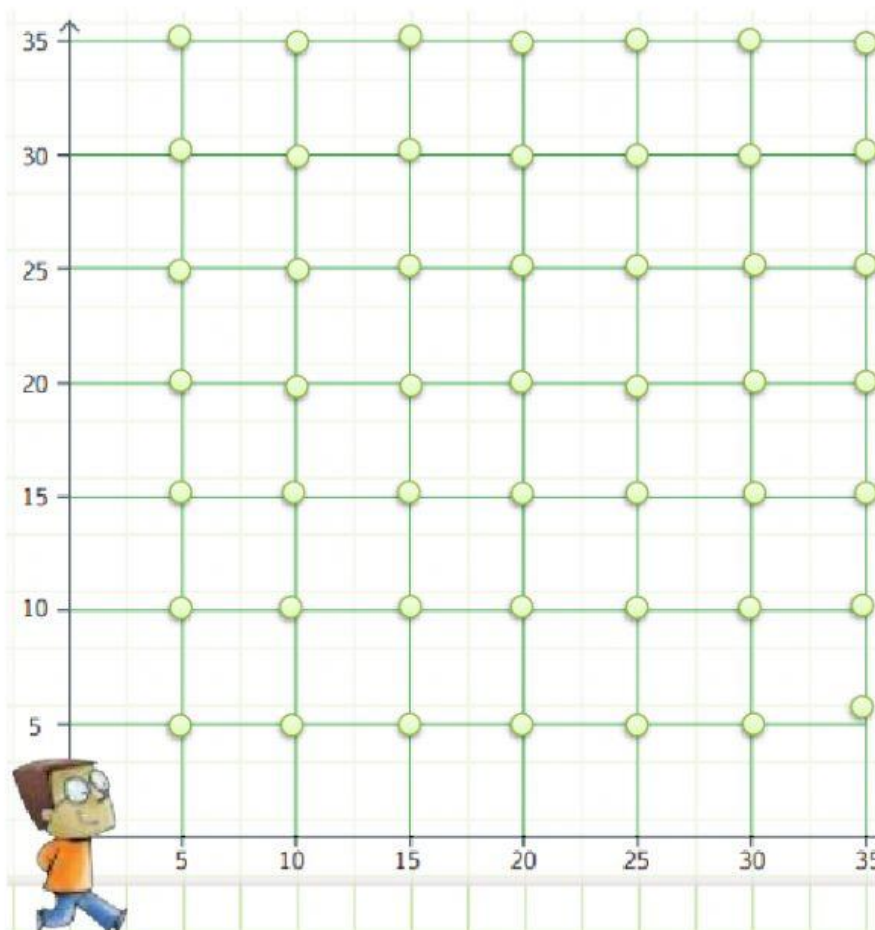




(6; 4)

2) Identifico las coordenadas de los lugares que visitó Juan, escribió los pares ordenados que corresponden.

Arrastro y ubico los nombres de los puntos en el plano cartesiano.

Juan inició su recorrido dando 20 pasos a la derecha y luego subió 15 pasos, ahí compró el libro de Matemática que necesitaba. Luego regresó hacia la izquierda 5 pasos y bajó 10, en este lugar retiró dinero del banco. Como finalmente tenía que ir a la biblioteca, se desplazó 15 pasos a la derecha y luego subió 20 pasos.



PARES ORDENADOS	LUGAR	
(;)	Librería	
(;)	Banco	
(;)	Biblioteca	