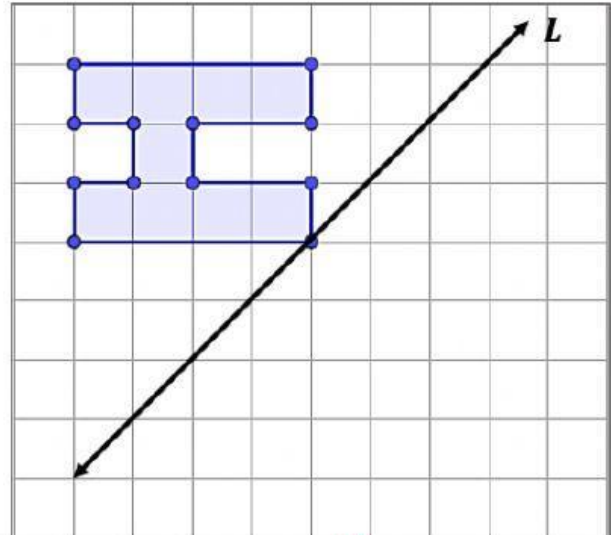
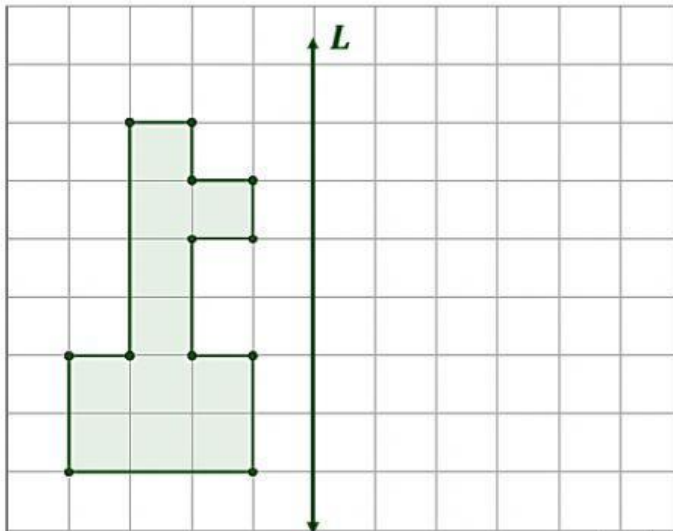


Alumno(a): _____ Grado y Sección: **I**

I. Selecciona cada cuadradito para formar el simétrico de cada figura con respecto a la recta "L":

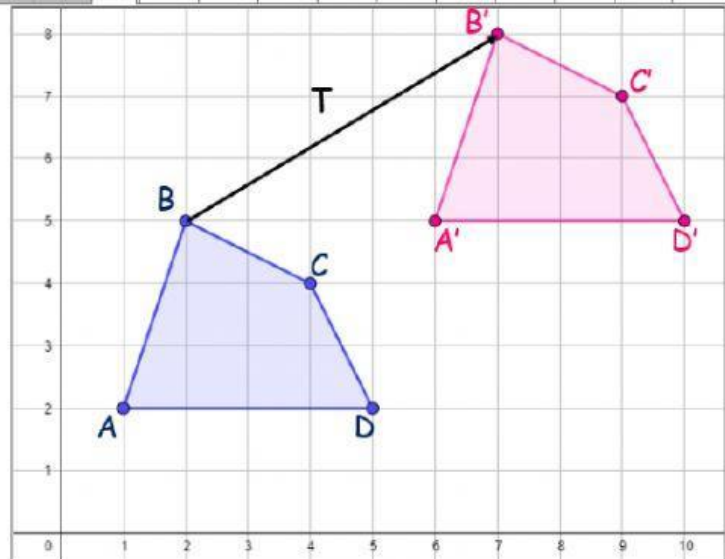


II. Observa la imagen del cuadrilátero ABCD y encuentra el vector de traslación (T):

a) T (4; 6)

b) T (5; 3)

c) T (6; 2)



III. Si la figura se traslación por efecto de un vector, encuentra las nuevas coordenadas de la imagen del punto E:

a) E' (6; 7)

b) E' (9; 4)

c) E' (8; 6)

