


















# Fracciones

Emparejar cada fracción con su representación visual adecuada.

$\frac{1}{6}$		$\frac{1}{4}$
	$\frac{3}{8}$	
$\frac{7}{8}$		$\frac{2}{9}$
	$\frac{3}{4}$	
$\frac{1}{8}$		$\frac{5}{8}$
	$\frac{7}{16}$	
$\frac{1}{6}$		$\frac{4}{9}$
	$\frac{5}{18}$	
$\frac{3}{4}$		$\frac{2}{7}$
	$\frac{5}{9}$	
$\frac{3}{7}$		$\frac{9}{16}$
	$\frac{7}{10}$	