



## SEMANA 25 – DÍA 3

### COMPARAMOS CANTIDADES

1. Lee la siguiente situación con mucha atención:

- El enfermero Raúl ha juntado y organizado galletas en bolsas de 10 para regalarlas a las personas que se vacunan. Observa:



- ¿Cuántas galletas juntó Raúl en total?

2. Selecciona la respuesta correcta a las siguientes preguntas:

a) ¿De qué trata el problema?

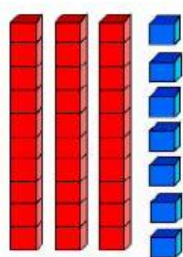
b) ¿Qué ha juntado el enfermero Raúl?

c) ¿Cómo organizó las galletas?

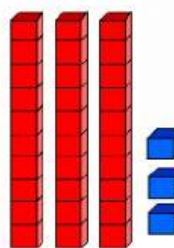
d) ¿Cuántas galletas contiene cada bolsa?

e) ¿Qué nos pide el problema?

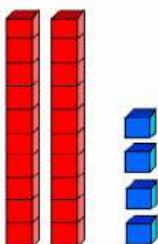
3. Observo las siguientes representaciones con el Material BASE 10, coloca los signos  $>$ ,  $<$  e  $=$  y escribe en cada Tablero de Posición el número que corresponde.



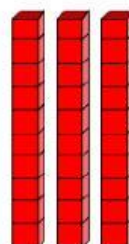
D	U




D	U



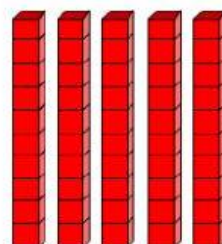
D	U



D	U



D	U



D	U

4. **ACTIVIDAD PARA CASA:** Representa con el material Base 10 y coloca el signo  $>$ ,  $<$  e  $=$ :  $30 \underline{\hspace{1cm}} 33$ ,  $39 \underline{\hspace{1cm}} 37$ ,  $40 \underline{\hspace{1cm}} 42$ ,  $45 \underline{\hspace{1cm}} 45$ ,  $53 \underline{\hspace{1cm}} 59$

Desarrolla las págs. 97 y 98 de tu Cuaderno de Trabajo de Matemática