



**PEMERINTAH KABUPATEN LUWU TIMUR**  
**DINAS PENDIDIKAN**  
**SDn No. 264 WAWONDULA**

*Alamat : Jl. Gunung Agung No. 01, Wawondula Kecamatan Towuti*

**SOAL PENILAIAN TENGAH SEMESTER 1**


**Tema : 1. Organ Gerak hewan dan Manusia**  
**Kelas : 5 ( Lima )**

**Nama Siswa/No.Absen : .....**  
**Hari Tanggal : .....**

**Berikan tanda silang (x) pada jawaban yang benar !**

1. Sikap dalam kehidupan sehari-hari yang sesuai dengan pancasila sila pertama adalah ....
  - A. Kebebasan beragama
  - B. Saling tolong menolong
  - C. Bermusyawarah
  - D. Keseimbangan hak dan kewajiban
2. Gotong royong termasuk pengamalan dari sila
  - A. 1
  - B. 2
  - C. 3
  - D. 4
- 3.

Prinsip-prinsip gotong royong sangat bermanfaat bagi pelaksanaan pembangunan nasional. Karena semua masyarakat merasa saling memiliki. Masyarakat juga merasa mempunyai tujuan yang sama, yakni terwujudnya kehidupan yang sejahtera. Dengan bergotong royong, segala program pembangunan yang dicanangkan oleh pemerintah akan dapat dilaksanakan dengan baik tanpa adanya gangguan yang disebabkan oleh ketidakharmonisan masyarakat.



Ide pokok paragraf diatas adalah .....

- A. Prinsip gotong royong
- B. Kehidupan sejahtera
- C. Pembangunan yang baik
- D. Masyarakat yang harmonis

4.

Organ gerak pada hewan dan manusia memiliki kesamaan. Alat-alat gerak yang digunakan pada manusia dan hewan ada dua macam, yaitu alat gerak pasif berupa tulang dan alat gerak aktif berupa otot. Kedua alat gerak ini akan bekerja sama dalam melakukan pergerakan. Kerja sama antara kedua alat gerak tersebut membentuk suatu sistem yang disebut sistem gerak.

Tuliskan ide pokok pada paragraf diatas !

- A. Kesamaan organ gerak hewan dan manusia
  - B. Dua macam alat gerak
  - C. Alat gerak pasif dan alat gerak aktif
  - D. sistem gerak pada hewan dan manusia
5. Salah satu contoh mata pencaharian di daerah pesisir pantai adalah .....
- A. Petani
  - B. Peternakan
  - C. Nelayan
  - D. Perkebunan
6. Mata pencaharian di daerah pegunungan yaitu ....
- A. Perkebunan teh
  - B. Penanaman padi
  - C. Penanaman jagung
  - D. Peternakan ayam
7. Alat gerak pada manusia dan hewan ada dua macam,yaitu .....
- A. Alat gerak pasif dan alat gerak aktif
  - B. Alat gerak depan dan alat gerak belakang
  - C. Alat gerak primer dan alat gerak sekunder
  - D. Alat gerak sadar dan alat gerak tidak sadar
8. Yang bukan merupakan kelainan pada tulang manusia adalah ....
- A. Lordosis
  - C. Oerosis
  - B. Skoliosis
  - D. Kifosis
9. Kelainan otot yang membesar dan menjadi lebih kuat karena sel otot diberikan kegiatan/aktivitas yang terus-menerus secara berlebihan disebut ....
- A. Atrofi
  - C. Stiff
  - B. Hipertrofi
  - D. Tetanus
10. Kebebasan memeluk agama merupakan pengamalan Pancasila sila ....
- A. 1
  - C. 3
  - B. 2
  - D. 4
11. Perilaku yang melanggar nilai pancasila .....
- A. Mentaati peraturan agama
  - C. Bersikap individualisme

B. Menolong sesama teman

D. Gotong royong

12. Perhatikan paragraf berikut !

Kerukunan umat beragama sangat penting bagi bangsa Indonesia untuk mencapai kesejahteraan hidup. Seperti yang telah kita ketahui bahwa Indonesia memiliki keragaman yang begitu banyak, salah satunya adalah agama. Meskipun mayoritas penduduk Indonesia memeluk agama Islam, namun ada beberapa agama lain yang juga dianut, yakni Buddha, Hindu, Kristen, Katholik, dan Konghucu. Setiap agama tentunya memiliki aturan masing-masing dalam menjalankan ajaran agamanya. Namun, perbedaan ini bukanlah alasan menjadi pemecah belah, namun justru menjadi pemersatu dan memperkaya nilai-nilai dalam masyarakat. Sebagai satu saudara dalam tanah air yang sama, kita harus menjaga kerukunan umat beragama agar bangsa dan negara kita tetap menjadi satu kesatuan yang utuh.

Apa ide pokok dari paragraf diatas?

- A. Kerukunan umat beragama sangat penting bagi bangsa Indonesia
- B. Indonesia memiliki keragaman yang begitu banyak, salah satunya adalah agama
- C. Agama dianut, yakni Buddha, Hindu, Kristen, Katholik, dan Konghucu
- D. Perbedaan ini bukanlah alasan menjadi pemecah belah, namun justru menjadi pemersatu

13. Paragraf yang baik adalah paragraf yang terdiri atas satu kalimat topik dan beberapa .....

- A. Kalimat utama
- C. Kalimat keterangan
- B. Kalimat pengembang
- D. Kalimat penghubung

14.



Gambar diatas merupakan kenampakan alam .....

- A. Bukit
- C. Dataran rendah
- B. Goa
- D. Pantai

15. Mata pencaharian di daerah pantai adalah ....

- A. Perkebunan teh
- C. Petani garam
- B. Pertambakan ikan tawar
- D. Nelayan

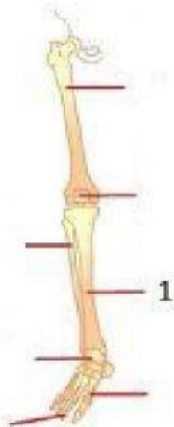
16.



Tulang yang ditunjukkan no 1 adalah .....

- A. Tulang pengumpil
- B. Tulang hasta
- C. Tulang tangan
- D. Tulang lengan

17.



Tulang yang ditunjukkan no 1 adalah ....

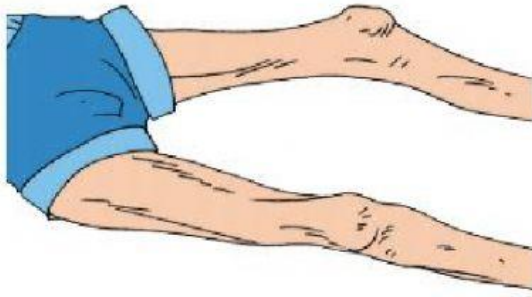
- A. Tulang betis
- B. Tulang kering
- C. Tulang paha
- D. Tulang kaki

18. untuk mencegah terjadi kelainan pad organ gerak, kecuali...

- A. Membiasakan pola duduk / tidur / berjalan yang benar (tidak membungkuk dsb)
- B. Rutin berolahraga
- C. Cukup asupan nutrisi terutama kalsium dan fosfor
- D. kurang terkena (terpapar) sinar matahari pagi

19. Gambar di bawahini merupakan kelainan otot yang bernama...





- A. Hipertrofi
- B. Atrofi
- C. Stiff
- D. tetanus

20. Serangkaian gambar yang mengandung narasi atau ceruta disebut .....

- A. Gambar cerita
- B. Gambar ekspresif
- C. Gambar imajinatif
- D. Gambar eksekutif

21. Corak gambar cerita yang dibuat seperti keadaan aslinya disebut .....

- A. Realis
- B. Kartun
- C. Karikatur
- D. Dekoratif

22. Berikut ini yang merupakan alas gambar adalah .....

- A. Batu
- B. Kain
- C. Keramik
- D. kanvas