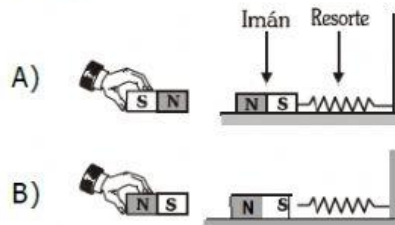
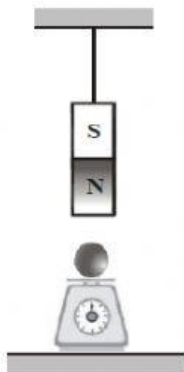


FICHA APLICATIVA DE FISICA : MAGNETISMO


1. Indique en cuál de los casos la lectura en la balanza disminuye con respecto a la lectura inicial. 2.- ¿En cuál de los casos el resorte se encuentra estirado?



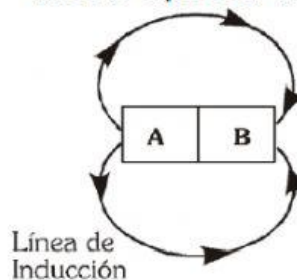
i)



ii)



- 3.- Según el gráfico, en cuál de los puntos se encuentra ubicado el polo sur magnético.



- A) A
B) B
C) A o B
D) no se puede identificar
E) no tiene polos magnéticos

- 4.- Indique verdadero (V) o falso (F) según corresponda:

- I) Imanes de polos iguales se repelen ()
II) Imanes de polos diferentes se atraen ()
III) Los polos magnéticos se pueden separar por algún método..... ()

