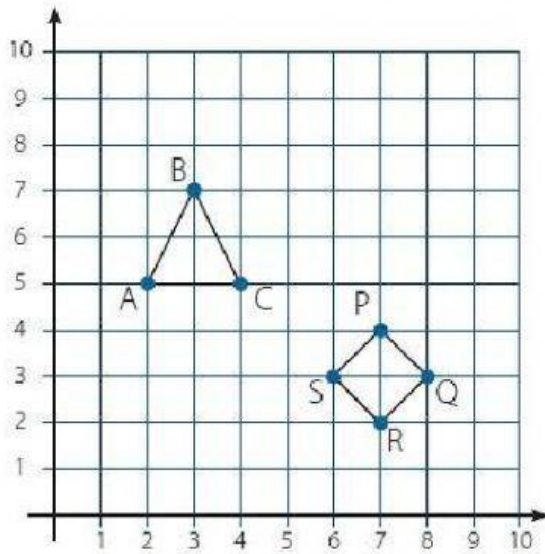


PRÁCTICA CALIFICADA: PLANO CARTESIANO

Observa el siguiente gráfico y responde:



¿Cuál es la coordenada de los vértices del triángulo?

A (4,5) B (5,7) C (4,5)

A (3,5) B (4,6) C (5,5)

A (3,5) B (3,6) C (4,5)

A (2,5) B (3,7) C (4,5)

¿Cuál es la coordenada de los vértices del rombo?

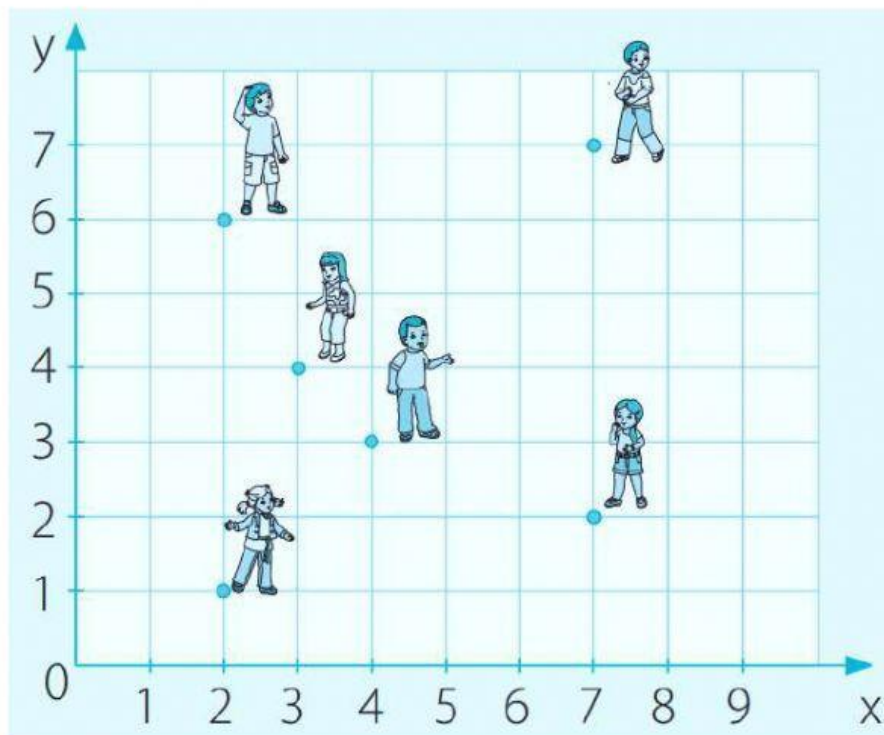
P (6,3) Q (5,2) R (8,2) S (7,3)


P (8,3) Q (7,2) R (5,2) S (6,2)

P (7,4) Q (8,3) R (7,2) S (6,3)

P (6,6) Q (8,5) R (7,3) S (8,3)

Escribe el par de números que indica la ubicación de cada estudiante.




a.  Aníbal (;)

b.  Emilia (;)

c.  Miguel (;)

d.  Patricia (;)

e.  Jana (;)

f.  Oscar (;)