
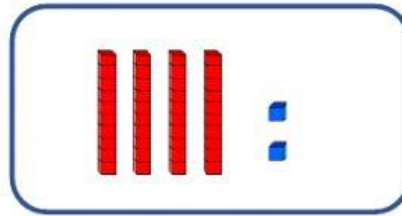





1. Observe las cantidades de los recuadros. Escriba el número que se forma en la caja de valores y por último realice la suma, según corresponda.




+



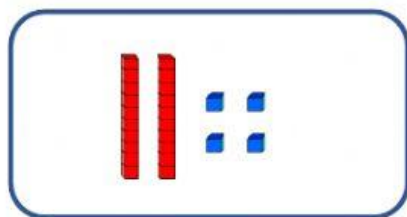
d	u



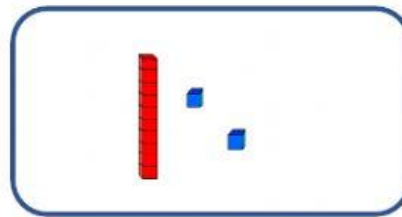
+




d	u




+




d	u




+



d	u












+



d	u



2. Escucha el número y luego escríbelo en el recuadro correspondiente.

	<input type="text"/>		<input type="text"/>		<input type="text"/>
	<input type="text"/>		<input type="text"/>		<input type="text"/>
	<input type="text"/>		<input type="text"/>		<input type="text"/>

3. Coloque correctamente las cantidades en la caja de valores, luego realice la resta según corresponda.

a.) $89 - 63 =$

d	u
<hr/>	

b.) $28 - 16 =$

d	u
<hr/>	

c.) $48 - 33 =$

d	u
<hr/>	

d.) $65 - 42 =$

d	u
<hr/>	

e.) $79 - 7 =$

d	u
<hr/>	

f.) $53 - 20 =$

d	u
<hr/>	