


UNIDAD EDUCATIVA BENJAMÍN FRANKLIN

MID TERM QUIZ – PRIMER QUIMESTRE




Name: _____ Date: 28 - 09 - 2020
Subject: Ciencias Naturales Teacher: Miss Ainee Olvera G.
Course: Segundo de Básica

1. Marca las casillas de los seres vivos.



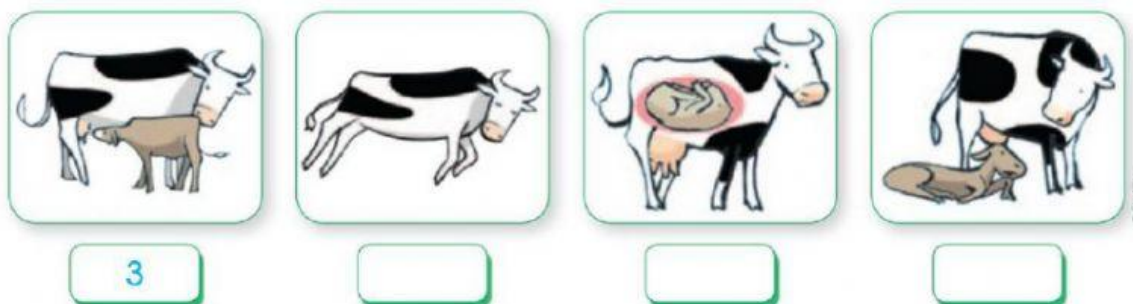
2. Une con una línea el grafico con la etapa del ciclo de vida de las personas.



3. Coloca los numeros 1, 2, 3 y 4 para ordenar el crecimiento de una planta.



4. Ordena con los números 1, 2, 3 y 4 el ciclo de vida de la vaca.



5. Observa las imágenes y compara el desarrollo de los seres humano con el de los animales y marca con la respuesta correcta.

¿Cómo nacen los  ?

• ¿Nacen de  ? ☐

• ¿Nacen de  ? ☒























¿Cómo nacen los  ?

• ¿Nacen de  ? ☐






• ¿Nacen de  ? ☐

TIC
Indagación

6. Escribe la primera letra del nombre de cada animal para descubrir el mensaje oculto.

7. Arrastra estas imágenes y ordena secuencialmente las distintas etapas de la vida.

1 	2 	3 
4 	5 	6 