

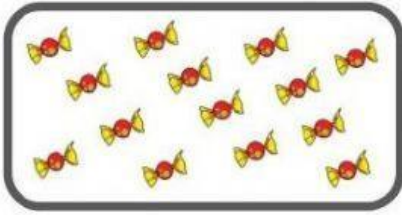


UNIDADES Y DECENAS

1. Unir el número correcto con la imagen:




1 decena y 2 unidades

1 decena y 6 unidades

1 decena y 4 unidades

2. Indica cuántas decenas y unidades hay de acuerdo a los números:

- 12 = _____ decena y _____ unidades.
- 52 = _____ decenas y _____ unidades.
- 40 = _____ decenas y _____ unidades.
- 48 = _____ decenas y _____ unidades.
- 59 = _____ decenas y _____ unidades.



3. Arrastra el número de acuerdo a la cantidad de decenas y unidades que veas:

Tres decenas y cuatro unidades:

Cuatro decenas y una unidad:

Dos decenas y cinco unidades:

25

41

34

4. Elija la decena correcta de acuerdo al número:

El número 57 tiene: _____ decenas y _____ unidades.