

11. Compara y contrasta las siguientes. Luego resuelve los ejercicios escribiendo  $>$  o  $<$  según corresponda. multibase

3U 8D		5U 8D
-------	--	-------

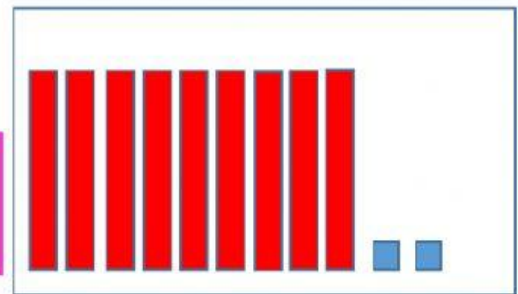
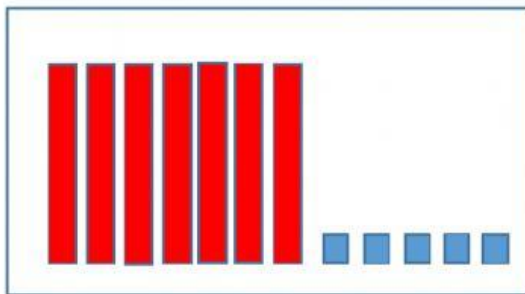
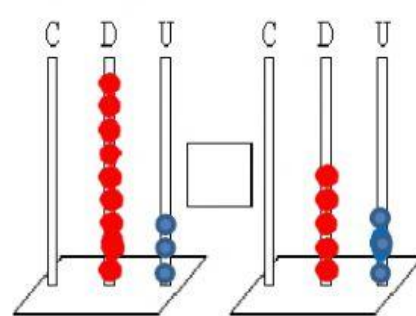
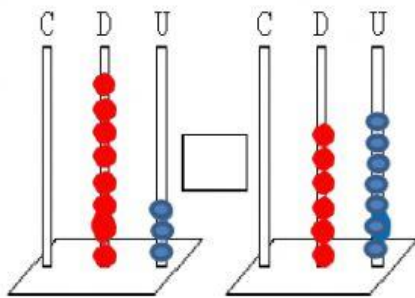
8U 6D		6D 6U
-------	--	-------

4U 9D		9D 1U
-------	--	-------

90		$81 + 4$
----	--	----------

$81 + 3$		$80 + 6$
----------	--	----------

$71 + 5$		$72 + 6$
----------	--	----------



12. Identifica el orden de las personas para ingresar al cine y escribe los números ordinales en los círculos.

2° 5° 8° 3° 9° 4° 6° 7°

