

UNIDAD EDUCATIVA BENJAMÍN FRANKLIN

MID TERM QUIZ – PRIMER QUIMESTRE



Name: _____ Date: 30 - 09 - 2020
 Subject: **Matemàtica** Teacher: Miss Ainee Olvera G.
 Course: Segundo de Bàsica

1. Resuelve las sumas o adiciòn.

a.

	1
	3
<hr/>	

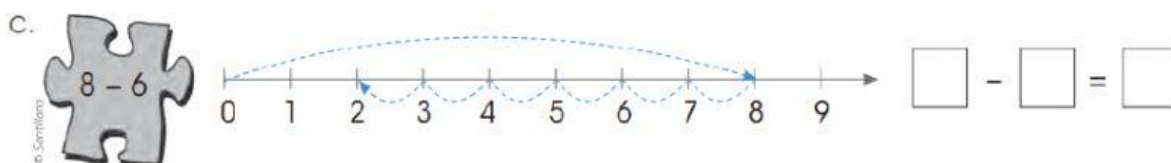
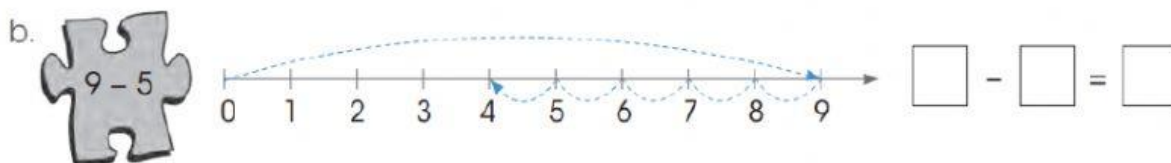
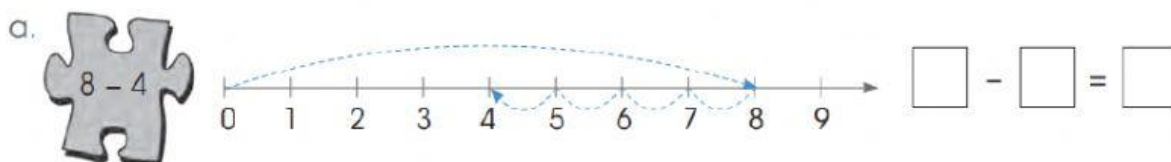
b.

	3
	6
<hr/>	

c.

	2
	3
<hr/>	

2. Observa las semirrectas y resuelve las restas o sustracciòn de forma horizontal.



3. Observa las imágenes y completa los datos de los siguientes problemas.



6 menos
es igual a .
 $6 - \square = \square$.

Quedan _____ pétalos.



5 menos
es igual a .
 $5 - \square = \square$.

Hay _____ perros despiertos.

4. Lee, observa y resuelve.

Había 6 pasteles.



$$\begin{array}{r} 6 \\ - \square \\ \hline \square \end{array}$$

Había 9 globos inflados.



$$\begin{array}{r} \square \\ - \square \\ \hline \square \end{array}$$

5. Resuelve.

$$\begin{array}{r} 6 \\ - 3 \\ \hline \square \end{array}$$

$$\begin{array}{r} 9 \\ - 2 \\ \hline \square \end{array}$$

$$\begin{array}{r} 7 \\ - 4 \\ \hline \square \end{array}$$

$$\begin{array}{r} 5 \\ - 3 \\ \hline \square \end{array}$$

$$\begin{array}{r} 9 \\ - 9 \\ \hline \square \end{array}$$

R: Andrea tiene ahora lápices.