
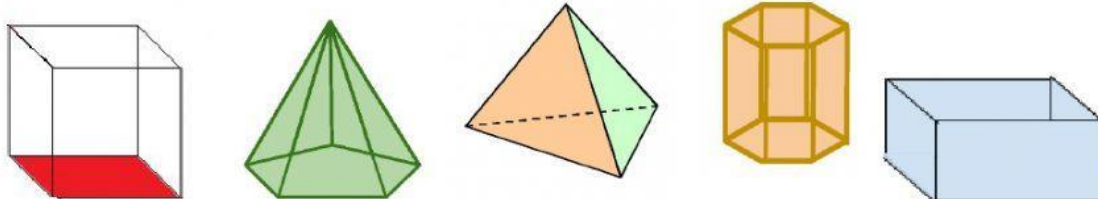




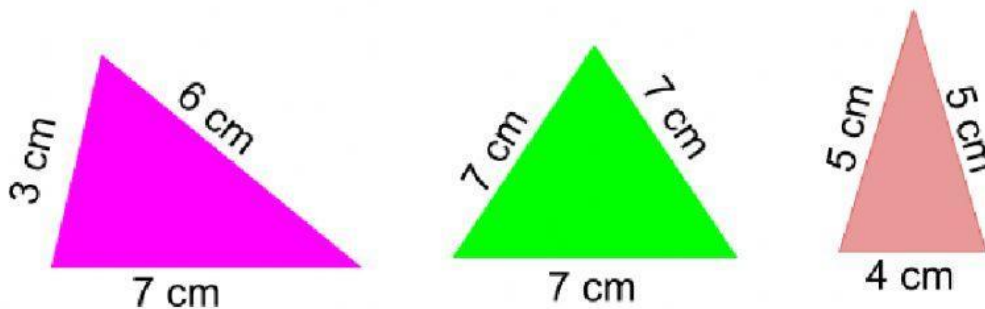
Polígonos

- 1) Quando contornamos um objeto desenhamos uma figura geométrica plana, como demonstra imagem ao lado. Contorne os sólidos geométricos nesta posição e encontre os polígonos resultantes.



nomes

- 2) Classifique os triângulos de acordo com a medida dos LADOS em **equilátero, isósceles ou escaleno**:



- 3) Classifique os triângulos de acordo com a medida dos **ÂNGULOS**:

