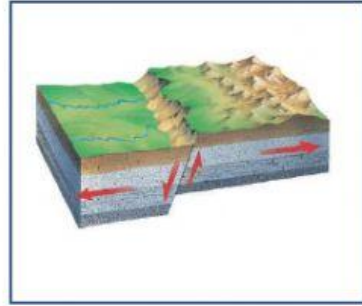
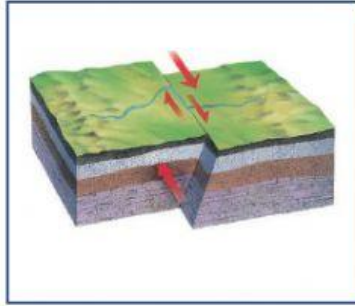



1- صلي النوع الصحيح للصدوع أدناه :



الصدع العكسي

صدع العادي

صدع جانبي

2- صلي بين المصطلحات العلمية مع ما يناسبها مما يلي

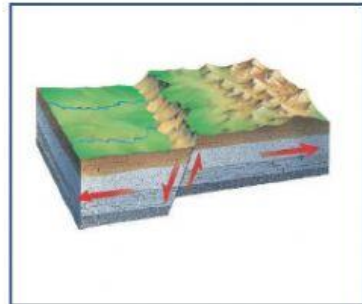
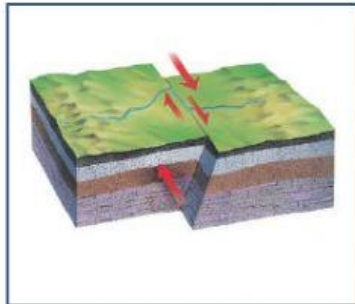

كسور يرافقها حركة للكتل الصخرية على امتداد الكسر

الزلازل

الاهتزازات الناتجة عن التكرس و حركة الصخور

الصدع

3- في الصور الموجودة امامك أنواع الصدوع صلي كل نوع صد بالقوى المسببه لتكوينه :



قوى قص

قوى شد

قوى ضغط