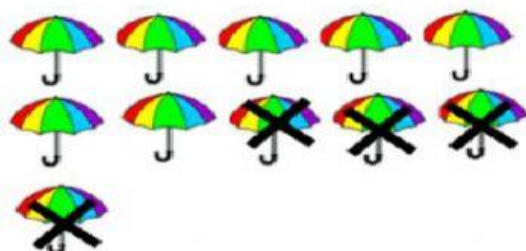


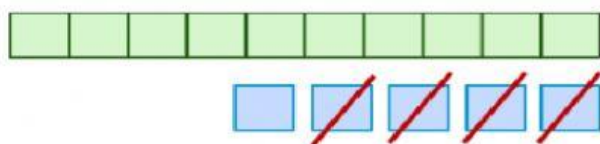
## Ejercicios para repasar.

Observa las imágenes y escribe la sustracción con su respuesta.



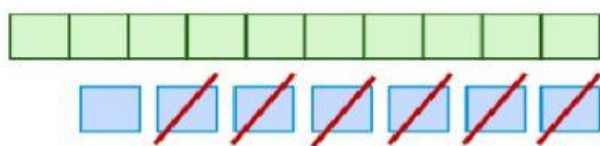
	-		=	
--	---	--	---	--

Observa cada representación y completa la sustracción.



D	U

1
4
5
6
7



D	U

**Resuelve las sumas.**

D	U
1	2
	5

D	U
1	3
	4

D	U
1	6
	3

Marca el casillero que indica que el número de elementos de cada cuadro están ordenados en forma decreciente.



☐ 11, 9, 6, 5, 3

☐ 3, 5, 6, 9, 11

☐ 11, 6, 9, 5, 3