







**PEMERINTAH DAERAH KOTA CIMAHI**  
**DINAS PENDIDIKAN**  
**SEKOLAH DASAR NEGERI PADASUKA MANDIRI 4**  
**PENILAIAN TENGAH SEMESTER (PTS) 1**  
**TAHUN PELAJARAN 2020/2021**



MATA PELAJARAN : <b>SBDP</b>	NAMA : .....
KELAS : VI (ENAM)	NISN : .....
HARI/TANGGAL : .....	NO ABSEN : .....
WAKTU : 60 MENIT	

**KD 3.3**

**I. Tulislah huruf A, B, C, atau D dengan memilih jawaban yang paling benar !**

1. Tari Saman merupakan tari tradisional yang berasal dari . . .  
A. Sumatra                      B. Sulawesi                      C. Jawa Barat                      D. Jakarta
2. Tari jaipong dari Jawa Barat menggunakan pola tari . . .  
A. Lurus                      B. Lurus dan melengkung                      C. lurus dan Zigzag                      D. zigzag
3. Tari badong dari tana toraja Sulawesi selatan menggunakan pola tari . . .  
A. lurus                      B. melengkung                      C. zigzag                      D. Lingkaran
4. Dibawah ini termasuk pola pola tari kecuali . . .  
A.                       B.                       C.                       D. 
5. Tarian yang menggunakan pola lantai garis melengkung membentuk lingkaran adalah tari  
A. Tari sedati                      B. Tari Kecak                      C. Tari Jaipong                      D. Tari Badong

**II. Isilah titik-titik di bawah ini dengan benar !**

6. Tari yamong berasal dari daerah .....
7. Asal mula tari Indang untuk keperluan ....
8. Pola lantai dimana penari berbaris membentuk garis menyudut kekanan dan Kekiri ....
9. Tari Indang berasal dari ....
10. Tari indang dimainkan secara ....

**III. Jawablah Pertanyaan di bawah ini !**

11. Sebutkan jenis-jenis pola lantai garis lengkung !
12. Apa yang dimaksud dengan pola lantai ?