
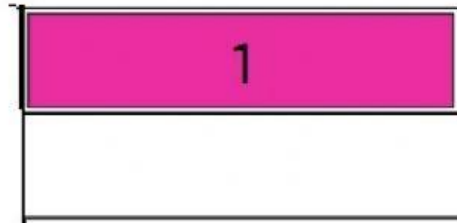


MATEMÁTICAS  
semana 24  
FRACCIONES

Usamos las tiras de fracciones para dividir la unidad en partes iguales

- a) Representa la unidad con las tiras de fracciones de  $\frac{1}{5}$  (Usa las que necesites)



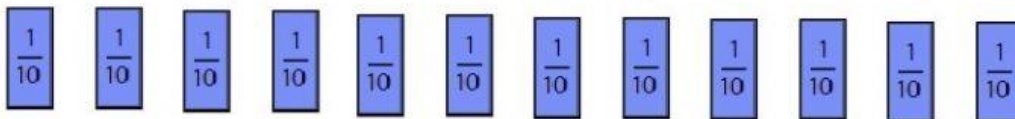
- b) ¿Cuántas tiras de  $\frac{1}{5}$  necesitaste para completar la unidad ?  
(señala)

2

4

5

- c) Representa la unidad con tiras de fracciones de  $\frac{1}{10}$



- ¿Cuántas tiras de  $\frac{1}{10}$  necesitaste para completar la unidad ?  
(escribe la respuesta)

