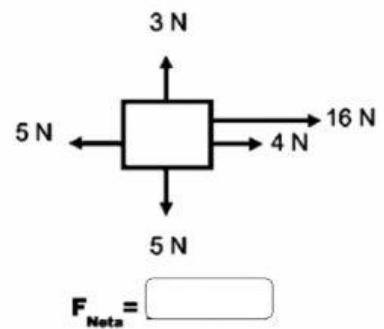
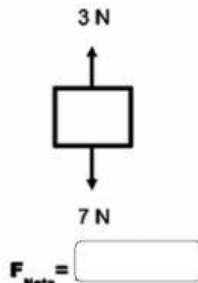
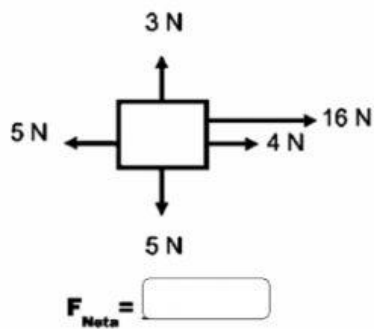
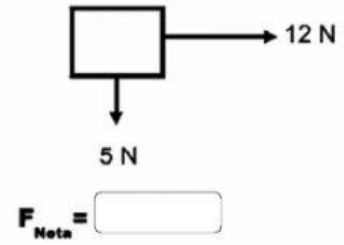
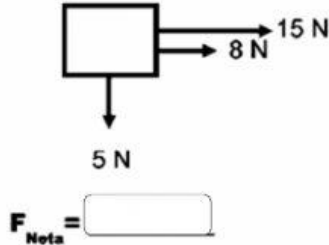
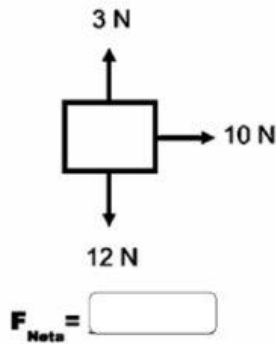


## Fuerza Resultante

I. Calcular la fuerza neta en cada caso.



II. En cada caso, se conoce el valor de la fuerza neta. Sin embargo, la magnitud de algunas fuerzas individuales no es conocida. Analice cada situación individualmente para determinar la magnitud de la fuerza conocida.

