

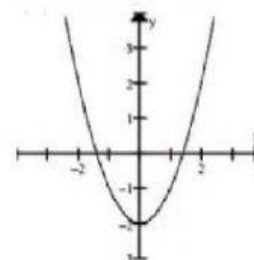
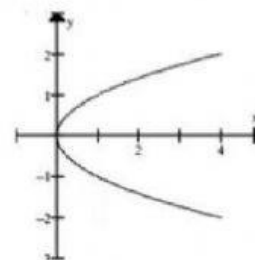
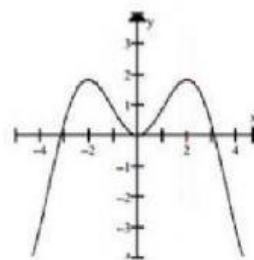
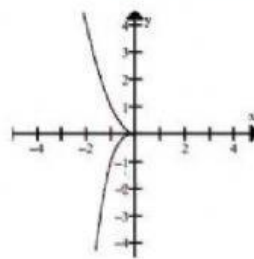
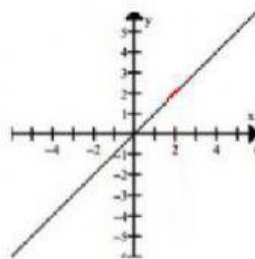
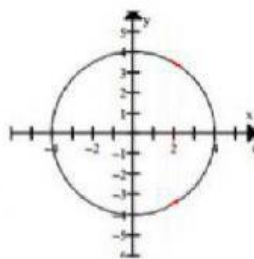
¡BRILLANTE!



## Actividad de aprendizaje ¿Funciones?

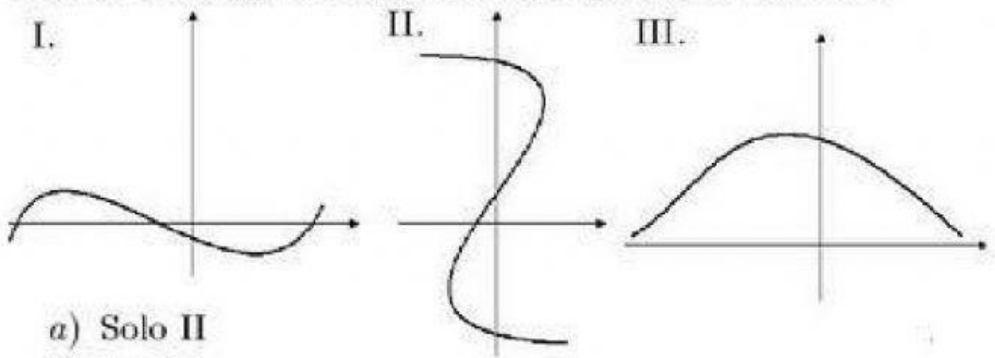
Regla de la recta vertical  
Profa. Marleny Vargas

Prueba  
cuáles  
gráficas son  
funciones  
con la regla  
de la recta  
vertical



Prueba  
cuáles  
gráficas son  
funciones  
con la regla  
de la recta  
vertical

Cuál de los siguientes gráficos representa una función?



- a) Solo II
- b) I y III
- c) Solo III
- d) Solo I
- e) Todos

Prueba  
cuáles  
gráficas son  
funciones  
con la regla  
de la recta  
vertical

