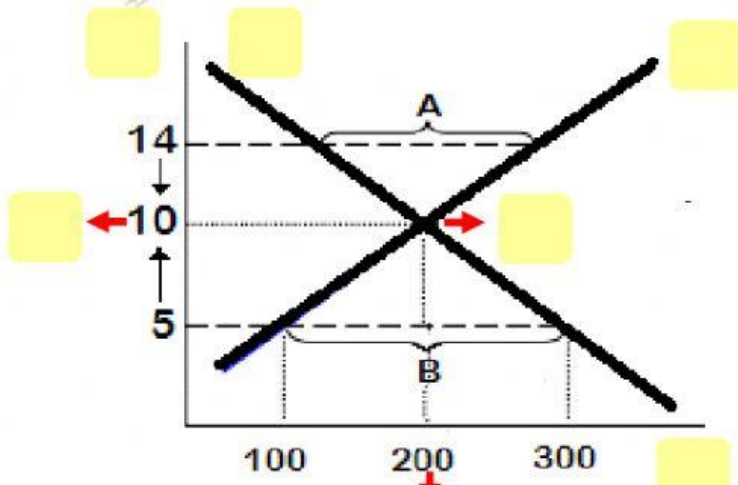
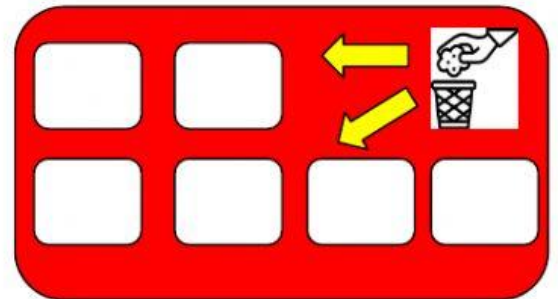
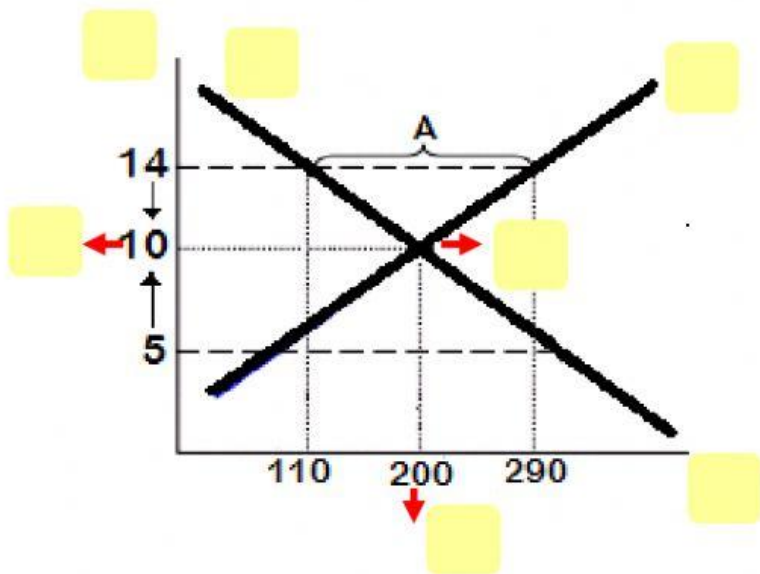


# EQUILIBRIO

Completa la solución del repaso, arrastrando los conceptos y referencias que se encuentran a la derecha en recuadros. Lo que no uses va a la Papelera. Luego completa las oraciones



- |    |    |    |
|----|----|----|
| Q  | P  |    |
| Q  | P  |    |
| O  | O  |    |
| D  | D  |    |
| Qd | Qo |    |
| Qd | Qo |    |
| PE | Pe | Qe |
| PE | Pe | Qe |



1- El Pe es de ..... Y la Qe es de .....

2- Si el precio en el mercado es de \$5 habría .....

ya que Qd es de ..... y Qo ..... por lo que el exceso será de ..... unidades que están marcadas en el gráfico como .....

3- Si el precio en el mercado es de \$14 habría .....

ya que Qd es de ..... y Qo ..... por lo que el exceso será de ..... unidades que están marcadas en el gráfico como .....

