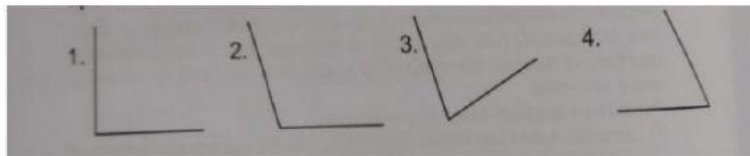


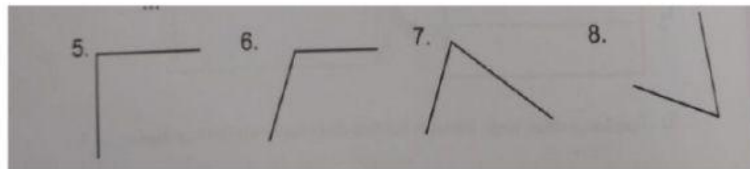
NAMA :

No. ABSEN :

Ukurlah sudut pada buku paket matematika halaman 28 nomor 1-8 dengan menggunakan penggaris busur dan tuliskan jawabannya pada kolom di bawah ini!




o o o o

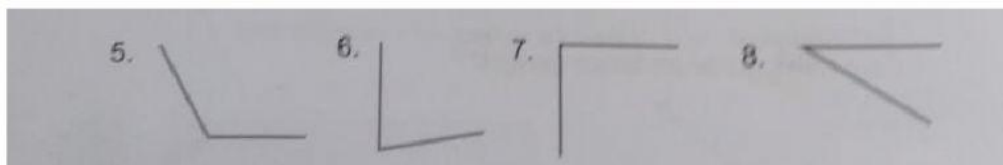


o o o o

Ukurlah sudut pada buku paket matematika halaman 30 nomor 1-8 dengan menggunakan penggaris busur dan tuliskan jawabannya pada kolom di bawah ini!



o o o o



o o o o