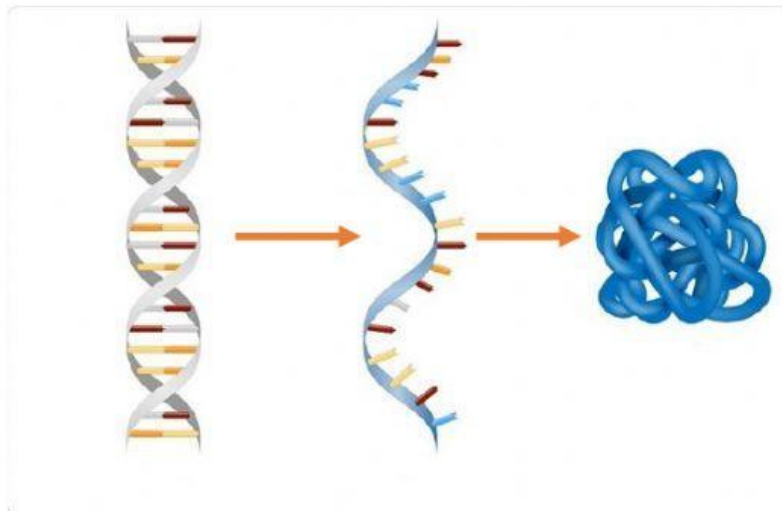


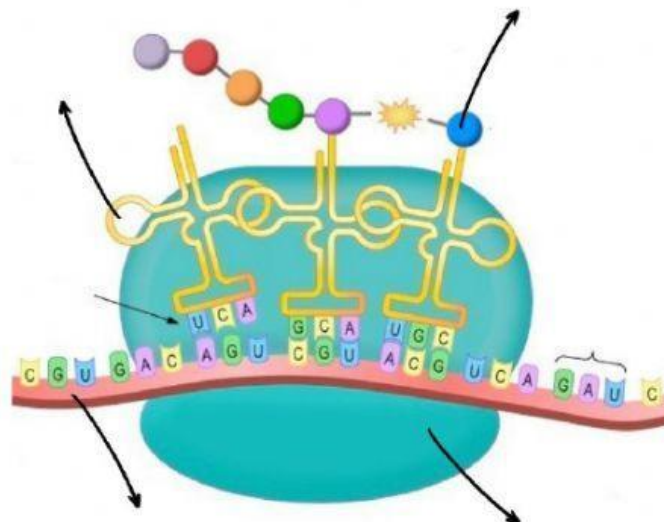
Biosíntesis de proteínas

1. Completa el siguiente gráfico con las siguientes palabras:

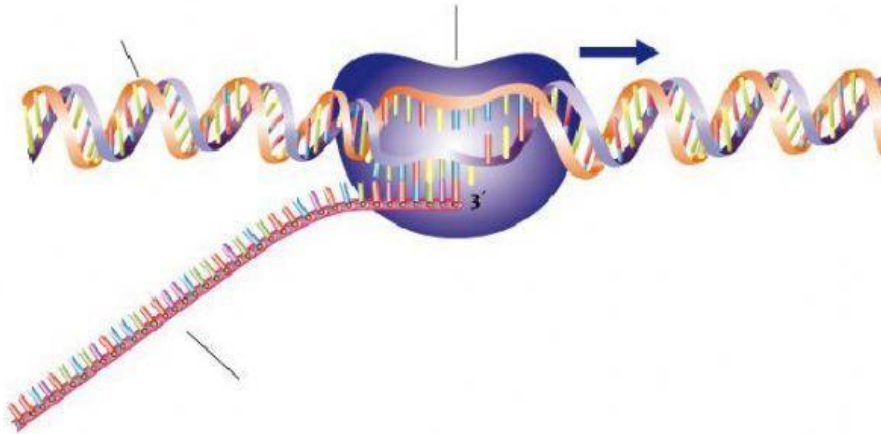
Proteína-Transcripción-ARN-Traducción-ADN



2. Anota los nombres de las partes señaladas y completa las oraciones con **UNA PALABRA** por espacio.



Este gráfico representa la etapa llamada Las sustancias que intervienen en esta etapa son: el ARN, el ARN, los ARN y los El resultado final de esta etapa es una



Este gráfico representa la etapa denominada Las sustancias que aquí participan son: el, el complejo enzimático ARN y numerosos nucleótidos. El resultado final de esta etapa es una molécula de ARN