











PRACTICAMOS LO APRENDIDO

1- **Pinchar** los gallitos para oír los números.

2- **Escribir** los números dictados, en forma simbólica (**número**) y literal (**nombre**).

Recuerda **escribir** el nombre con minúscula de molde, cuidando su ortografía.

1-			
2-			
3-			
4-			
5-			
6-			
7-			
8-			
9-			
10-			

3- **Componer** las cantidades en los cuadros de valor.

4- **Unir** con flechas cada cantidad con su gráfico.

• 9 decenas , 9 centenas

C	D	U




• $800 + 60 + 9 =$

C	D	U



• 7u., 6 c., 4d.

C	D	U



- 5- **Completar** los con los signos $>$ (mayor) , $<$ (menor), $=$ (igual):
(Para resolver esta consigna usa el multibase para formar las cantidades y poder comparar).

$500 \quad \square \quad 50$

$220 \quad \square \quad 202$

$120 \quad \square \quad 210$

$808 \quad \square \quad 908$

$700 \quad \square \quad 400$

$160 \quad \square \quad 600$

$333 \quad \square \quad 313$

$900 \quad \square \quad 900$

$440 \quad \square \quad 44$

$214 \quad \square \quad 214$

$930 \quad \square \quad 390$

$71 \quad \square \quad 711$

- 6- **Seleccionar** pinchando los números que corresponden en cada serie:

De 2 en 2

400	401	402	403	404	405	406	407	408	409
410	411	412	413	414	415	416	417	418	419

De 3 en 3

420	421	422	423	424	425	426	427	428	429
430	431	432	433	434	435	436	437	438	439

De 5 en 5

420	421	422	423	424	425	426	427	428	429
430	431	432	433	434	435	436	437	438	439
440	441	442	443	444	445	446	447	448	449



WUOLAH.COM - 10077842