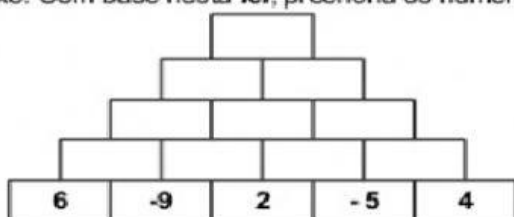


## NÚMEROS INTEIROS

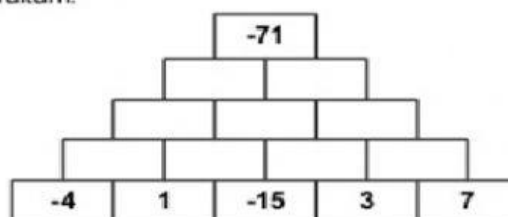
### Exercícios de fixação

1) Nas pirâmides a seguir, cada tijolinho é representado pela **adição algébrica** dos dois tijolinhos de baixo. Com base nesta **lei**, preencha os números que faltam.

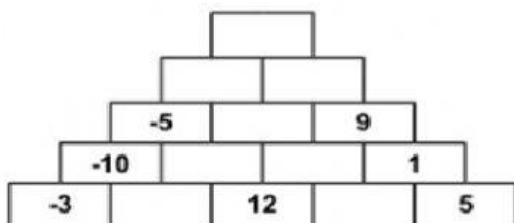
a)



b)



c)



d)

