

EVALUACIÓN DE CIENCIA Y AMBIENTE

QUINTA UNIDAD

ESTUDIANTE:

GRADO: PRIMERO SECCIÓN: AMARILLO

PROF: Eugenia Mendoza Flores Fecha: 08/09/2020

1. Selecciona el origen de cada alimento presentado en las imágenes.



2. Une con flechas los carteles y las imágenes de los alimentos por su función según corresponda



Reguladores

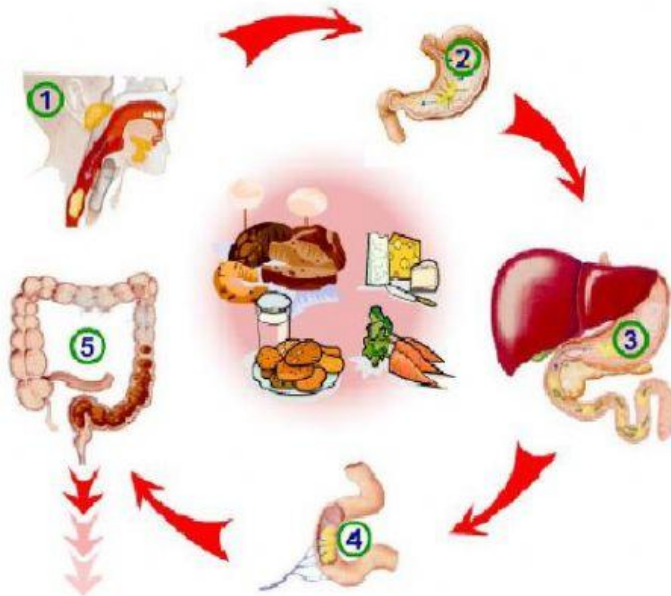
Formadores

Energéticos

3. Escribe el número que corresponden al proceso de la digestión en los enunciados siguientes, guíate de la imagen.

En el estómago se convierte en **Quilo** y pasa al intestino delgado.

Luego pasa por la faringe al estómago donde es bañado por los jugos gástricos y bilis



En el intestino delgado se convierte en **Quimo** aquí se absorbe los nutrientes.

Finalmente pasa al intestino grueso y es desechado por el ano.

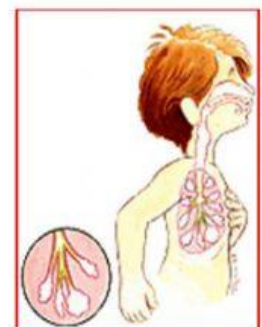
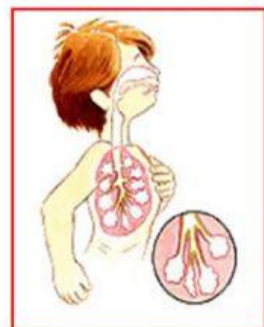
Se ingiere por la boca y se convierte en **bolo alimenticio**.

4. Une con flechas los órganos del sistema respiratorio en el siguiente esquema. Luego arrastra los carteles donde corresponden.

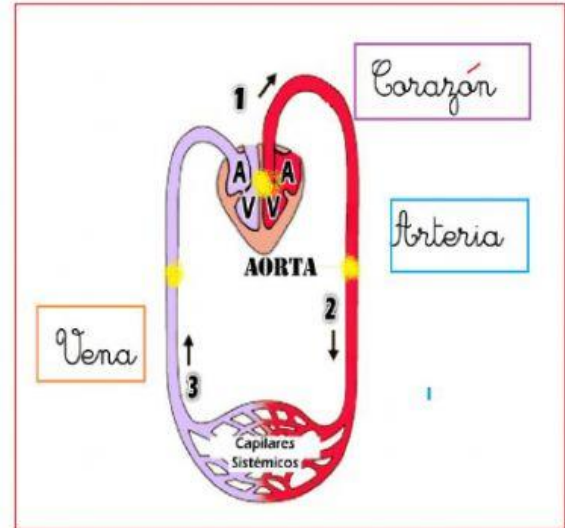
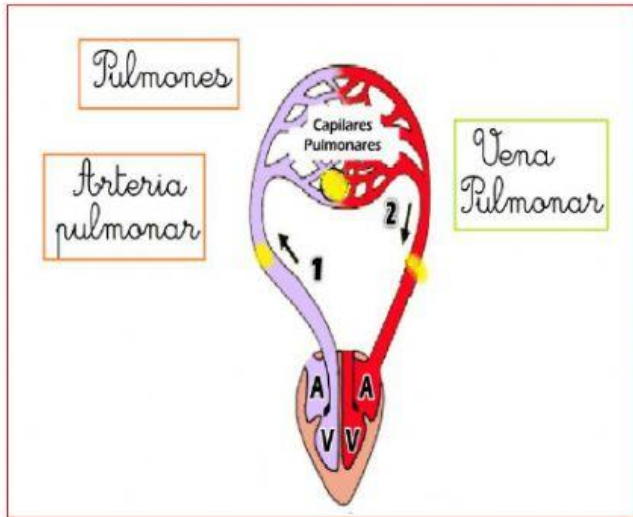


Expiración

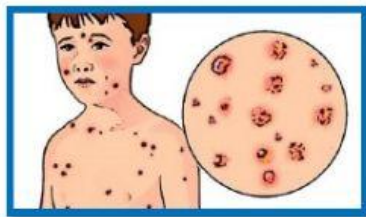
Inspiración



5. Elige en el esquema la circulación mayor y menor según corresponda, una con flechas algunos de los órganos que forman la circulación.



6. Arrastra el nombre de las enfermedades según corresponde a cada imagen.



Diarrea

Gripe

Varicela



7. Selecciona aquellas acciones que debemos realizar para prevenir enfermedades.

Ponerse las vacunas de acuerdo a nuestra edad.

Realizar actividad física

Alimentarnos de forma saludable y balanceada,

Comer con las manos sucias.

Alimentarnos de comida chatarra.

Lavarse las manos antes de comer.

Tomar abundante agua.