


Perímetro de las figuras

Instrucciones: Con base en el vídeo observado (y usando tu habilidades maestras), fíjate muy bien en las medidas de las siguientes figuras y calcula cuál sería su perímetro. Nota: Para el resultado únicamente anota el número.



Área:

Perímetro:




Área:

Perímetro:




Área:

Perímetro:



Área:

Perímetro:



Área:

Perímetro: