

ESCUELA DE EDUCACIÓN BÁSICA "EDUARDO KINGMAN"

eduardokingman13@hotmail.com
Sibambe # 510 y Ambato



ASIGNATURA: MATEMÁTICAS

AÑO BÁSICO: 2DO

NOMBRE: _____

FECHA: _____

EVALUACIÓN CORRESPONDIENTE AL SEGUNDO PARCIAL PRIMER QUIMESTRE

1.- Escriba si o no según corresponde (1 punto)

- La suma es aumentar o agregar elementos

si

no

- Los cuerpos geométricos se deslizan y ruedan

si

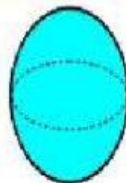
no

2.- Una con líneas los cuerpos geométricos según su característica (1.25 puntos)

Se deslizan

Se deslizan
y ruedan

Solo ruedan



3.- Cuenta, escribe y realiza las siguientes sumas (1 puntos)



$$\boxed{} + \boxed{} = \boxed{}$$

$$\begin{array}{r} + 8 \\ 5 \\ \hline \end{array}$$

4.- Arrastra y coloca el signo de mayor menor e igual que (1.50 Puntos)

59 34

28 28

35 46

95 83

64 67

14 14



5.- Completa la serie del 20 al 30 (1puntos)

20	-		-	22	-		-	24	-
	-	26	-		-	28	-		-
30	-								

6.- Selecciona y busca la respuesta de los números que van antes y después. (2 puntos)

← 10 →

← 17 →

← 18 →

← 26 →

7- Une con líneas (1.25 puntos)

1

UNO

4

TRES

6

CUATRO

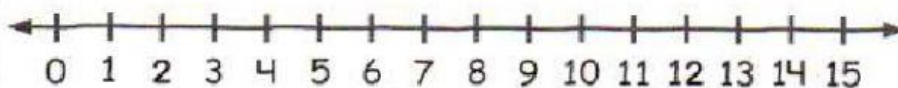

8

OCHO

3

SEIS

8,. Realiza las siguientes sumas en la semirrecta (0.50 puntos)



9.- Dictado de números (0.50 puntos)