

Problemas de suma y resta

Suma contando a partir del número mayor. Resta a partir del número menor hasta llegar al mayor.

😊 Juana tiene 11 caramelos y su mamá le regala 9. ¿Cuántos caramelos tiene Juana en total?

Tengo que hacer ☐ una suma ☐ una resta

$$\square \oplus \square = \square$$



Respuesta: Juana tiene caramelos en total.

😊 Vanessa tiene 16 lápices. 7 son de color azul y el resto son de color rojo. ¿Cuántos lápices rojos son?

Tengo que hacer ☐ una suma ☐ una resta

$$\square \ominus \square = \square$$



Respuesta: Vanessa tiene ahora lápices.



El gato tiene 18 galletitas en su platito. Se comió 4.

¿Cuántas galletas le quedan?

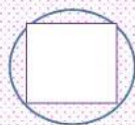
Tengo que hacer




una suma



una resta



=



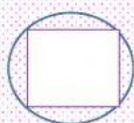
Respuesta:

Le quedan



galletas.

Crea un problema de suma.



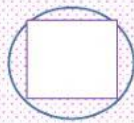
=



Repuesta:



Crea un problema de resta.



=



Repuesta:



Excelente
TRABAJO!!!