



Fundación Educacional "Javiera Carrera"
Miss Ana Cárdenas – Pierina Arteaga
Curso: 3 A-B
HGCS

GUÍA EVALUADA

- Lee atentamente las preguntas y completa con la información aprendida sobre Roma.
- Puntaje total 20 puntos.
- Fecha de entrega Lunes 21 de septiembre.

1.- Marca la alternativa correcta: (3pts)

- ¿En qué **península** se encuentra Roma?

a.- Península de los Balcanes.	b.- Península Itálica.	c.- Península Ibérica.	d.- Península de Tamán.
--------------------------------	------------------------	------------------------	-------------------------

- ¿Cuáles fueron las **actividades más importantes** de Roma?

a.- Caza y minería.	b.- Comercio y pesca.	c.- Pesca y artesanía.	d.- Agricultura y ganadería.
---------------------	-----------------------	------------------------	------------------------------

- Los **cultivos** más importantes de Roma son:

a.- Papa, arroz.	b.- Trigo, vid.	c.- Lentejas y ajo.	d.- Cebolla y tomate.
------------------	-----------------	---------------------	-----------------------

2. Marca los **juguets que utilizaban los niños romanos para jugar: (3pts)**




3.- Une con una la información con la imagen según corresponda: (4pts)


Especie de cama transportada por los esclavos.



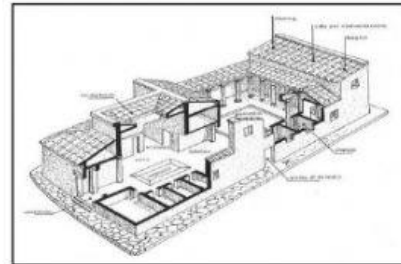
Vehículo para transportar personas y carga.



Vivienda habitada por la gente adinerada.



Red de caminos utilizados por los comerciantes y guerreros.



4.- Une con una cada miembro de la familia romana con su función; según corresponda: (3 pts.)

Pater familia

Función doméstica y administrativa del hogar.

Mujer Romana

Obligados a realizar las actividades más pesadas del imperio: Construcciones, fabricación de herramientas, producción de comidas etc.

Esclavos

Jefe de hogar, trabajaba y sostenía a la familia

5.- Arrastra los nombres de los lugares más importantes de Roma: (4pts)









**Coliseo
Romano**

Acueductos

Circo Romano

**Baños
Romanos**